



OSCAR ACADEMY
Under the Supervision of Ministry of Education and Higher Education
A. Y. 2023-2024

'Oscar Builds Readers and Leaders'
رؤية وزارة التربية والتعليم والتعليم العالي
الريادة في توفير فرص تعلم دائمة ومبتكرة ذات جودة عالية للمجتمع القطري



Summary Worksheet for the Mid-Exams Second Semester, 2023-2024 Arabic- y.5

المادة : اللغة العربية	الصف : الخامس
الاسم /	الصف /

أولاً : الحفظ

أولاً : الحفظ :

أَكْتُبِ الأَرْبَعَةَ أُبَيَاتِ التي تلي البيت التالي مِنْ قَصِيدَةِ (أشواق إلى الكعبة)	1
قلبي يشواق إلى الكعبة	
ويذوب وداًداً ومحبة	
-----	-----
-----	-----
-----	-----
-----	-----

المعلومات الواردة في هذه الوثيقة لا تحدد ما سيتم تناوله في اختبار بعينه ، وهي فقط أمثلة توضيحية لبعض صياغات الأسئلة الواردة عن بعض الموضوعات الرئيسية في المنهج وإرشادات عن كيفية التعامل معها .

النص الداخلي : قصيدة (أشواق إلى الكعبة)

أَشْتاقُ إِلَى الْحَرَمِ الْأَكْبَرِ وَكَذَا أَشْتاقُ إِلَى زَمْرَمُ
كَمْ أَرْجو يَوْمًا أَنْ أَغْنَمَ يا قَوْمِي وَأَفوزَ بِشَرْبَهُ
لَبَّيْكَ إِلَهَ الْأَكْوانِ لَبَّيْكَ بِقَلْبِي وَلِسانِي
أَقْبَلْتُ بِفَيْضِ الْإيمانِ أَدْعوكَ لِأَظْفَرَ بِالتَّوْبَةِ

أ/ استخرج من القصيدة ما هو مطلوب :

- 1- مرادف كلمة " أغنم " :
- 2- مرادف " فيض " :
- 3- مضاد " الأكبر " :
- 4- مضاد " أفوز " :

ب/ اكتب البيت الذي يعبر عن

* يدعو الشاعر ربه ليقبل توبته *

.....

* / ما الموضوع العام للقصيدة :

* / من خلال فهمك للقصيدة بم شبه الشاعر مكة في البيت الرابع ؟

.....

ثالثاً : النص الخارجي :

اقرأ قصة (الصيد الطموح) الآتية، ثم أجب عن الأسئلة :

في يومٍ من الأيام ذهب الصيادان (بدرٌ وعلي) لإصطياد الأسماك.

إصطاد بدرٌ سمكةً كبيرةً الحجم، فوضعتها في سلته وقرّر

العودة إلى بيته، فسأله الصياد عليّ: "إلى أين تذهب؟!"

فأجاب بدرٌ: "سأذهب للبيت، فقد اصطدت سمكةً كبيرةً جدًا"

فردّ عليّ: "إن من الأفضل إصطياد سمكٍ أكثر."

فسأله بدرٌ: "ولم عليّ فعل ذلك؟"

فردّ عليّ: "لأنك عندئذٍ تستطيع بيع الأسماك في السوق."

فسأله بدرٌ: "ولماذا أبيع الأسماك؟"

قال: "لكي تحصل على نقودٍ أكثر"، فسأله بدرٌ: "ولماذا أفعل ذلك؟"

"فردّ عليّ: "لأنك عندها تستطيع إيداعها وزيادة رصيدك في البنك."

فسأله بدرٌ: "ولم أفعل ذلك؟"

فردّ عليّ: "كي تُصيرَ غنيًا"، فسأله بدرٌ: "وماذا أفعل عندما أصبح غنيًا؟"

فردّ عليّ: "تستطيع عندها في أحد الأيام أن تستمتع بوقتك مع زوجتك وأبنائك."

فقال له بدرٌ: "وهذا ما أفعله الآن بالضبط، ولا أريد تأجيله حتى يضيع مني عمري!"

موقع موضوع العربي

1		المعنى المراد من كلمة (ادخاره) في جُملَة (تَسْتَطِيعُ ادخاره وزيادة رصيدك في البنك) هو :	
A	تَرَكَه		
B	تَوَفَّيْرَه		
C	سَرَقْتَه		
D	صَرَفَه		

2		ضع علامة (✓) جانب العبارة الصحيحة، وعلامة (×) جانب العبارة غير الصحيحة:	
()	أ. قَرَّرَ الصَّيَّادُ بَدْرٌ العُودَةَ إِلَى مَنزِلِهِ بَعْدَ صَيْدِ سَمَكَةٍ كَبِيرَةٍ.		
()	ب. نَصَحَ الصَّيَّادُ عَلِيَّ الصَّيَّادَ بِدِرِّ بَصِيدِ سَمَكَةٍ وَاحِدَةٍ فَقَطْ.		
()	ج. يُرِيدُ الصَّيَّادُ بَدْرٌ أَنْ يَزِيدَ رَصِيدَهُ فِي البَنْكِ وَيَصْبِحُ غَنِيًّا.		
()	د. سَمِعَ الصَّيَّادُ بَدْرٌ نَصِيحَةَ الصَّيَّادِ عَلِيٍّ وَتَابَعَ صَيْدَ السَّمَكِ .		

املاً الفراغين في الجملتين التاليتين بما يناسبه ممّا بين القوسين:
(الصيادُ بدرٌ - الصيادُ عليٌّ)

أ- قائل عبارة " سأذهبُ للبيْتِ، فَقَدِ اضْطَدْتُ سَمَكَةً كَبِيرَةً جِدًّا " هو :

.....

ب- قائل عبارة " :كَيْ تُصَيِّرَ غَنِيًّا " هو

ثالثاً : الكلمة والجمله

((ظرف الزمان والمكان))

* ضع الظرف المناسب وبين نوعه (مكان / زمان) :-

1- سأذهب إلى الحديقة المدرسة. نوعه (.....)

2- أتوضأ أن أصلي . نوعه (.....)

3- وضعت القلم الطاولة. نوعه (.....)

4- أجلس صديقي عُمر وصديقي خالد. نوعه (.....)

5- كُنت أَلْعَبُ، سمعت جرس الباب. نوعه (.....)

((حروف العطف))

* صنف الجمل التالية حسب المطلوب بالجدول :-

1- أحبُ القراءة والكتابة.

2- كتبتُ واجباتي ثم لعبتُ بالكرة.

3- صعدَ الفائزُ الأولُ فالثاني على المسرح.

4- أقرأ قصة أو كتاباً كل ليلة.

المعطوف	حرف العطف	المعطوف عليه

* / ضع حروف العطف التالية في جمل من عندك.

الواو :-

ثم :-

((الصفة))

* / أكمل الجمل التالية بصفة مناسبة ، مع الضبط .

- 1- وضعتُ القلمَ على الطاولة .
3- المعلمان نشيطان.
2- اشتريتُ حقيبةً من السوق.
4- أكلَ الولدُ تفاحتين

** أعرب الجمل التالية **

البيتُ الجديدُ نظيفٌ

إعرابها	الكلمة
	البيتُ
	الجديدُ
	نظيفٌ

فازَ الطالبانِ المجتهدانِ في المسابقةِ.

إعرابها	الكلمة
	فازَ
	الطالبانِ
	المجتهدانِ
	في
	المسابقةِ

8. _____ is the process by which the contents of a row are deleted from the worksheet.

a. Data addition

b. Deleting Rows

9. _____ is the process by which the contents of a column are deleted from the worksheet.

a. Deleting Columns

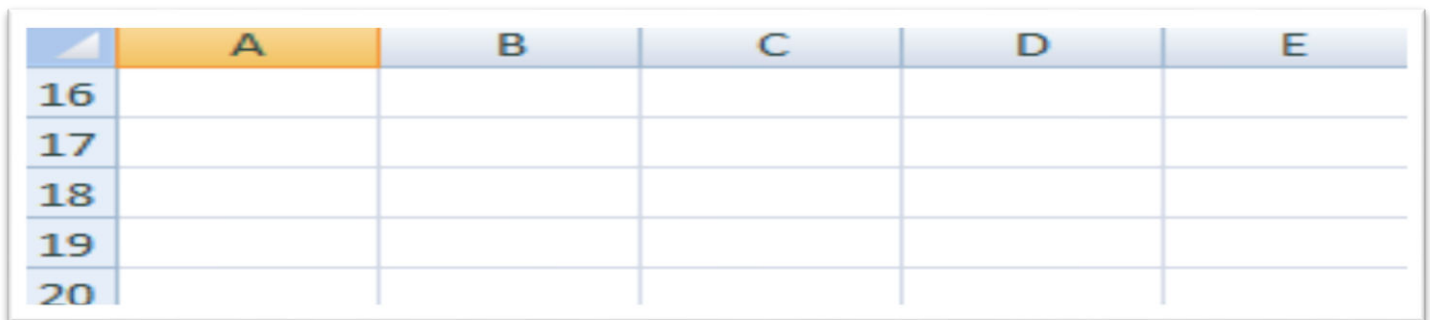
b. Row

10. _____ is the process of hiding some parts of the information and showing other parts.

a. Entry

b. Filtering

Q2. Label each cell to its corresponding name.




	A	B	C	D	E
16					
17					
18					
19					
20					


Q3. Choose the correct answer from the words given below for the shortcut keys used in MS Excel.


find	open	print	copy	italic
------	------	-------	------	--------


- CTRL + C = _____
- CTRL + P = _____
- CTRL + F = _____
- CTRL + O = _____
- CTRL + I = _____


Q4. Write "T" if the statement is correct, and write "F" if it's not.

1.  This icon is what we called it Microsoft Word. _____.

2.  We used this icon to open an old file. _____.

3.  To create new file. We need to click this icon? _____.

4.  To print new file, we need to click this icon? _____.

5.  This icon is what we called it Microsoft Excel. _____.

Q5. Complete the computer terms below. Choose you answer from the words given below.

Central Processing Unit	Hard Disk Drive	Read Only Memory	Universal Serial Bus	Random Access Memory
-------------------------	-----------------	------------------	----------------------	----------------------

1. CPU - _____

2. USB - _____

3. ROM - _____

4. RAM - _____

5. HDD - _____

Q6. Label the parts of the keyboards. Choose your answer from the words below.

Enter key	Function keys	Number keys	Shift keys	Escape key
-----------	---------------	-------------	------------	------------

Q7. Cyber Security: Choose the correct answer from the words given below.

Data theft	reliable	strangers	password	Anti-virus
------------	----------	-----------	----------	------------

- Some of the dangers of using the internet are
- Protect your personal information by using strong
- Do not share your data with .
- software's prevents viruses from damaging electronic devices.
- We should only use information on the internet.



Summary Worksheet for the Mid- Exams
Second Semester, 2023-2024

Subject: English	Year: 5 / ____
Name: _____	

VOCABULARY

Q1. Identify the correct synonym of the given word. Box your answer.

1. hazardous - (dangerous / careful / wonderful)
2. small - (big / small / giant)
3. wonderful - (amazing / patient / lazy)
4. jump - (sit / stand / leap)

Q2. Find the definition of each word by writing the letter of your answer.

- | | |
|---------------------|--|
| 1. exhausted _____ | a. a feeling of fear and you can't think clearly |
| 2. panic _____ | b. someone who likes to travel to new places |
| 3. mysterious _____ | c. very tired |
| 4. staggered _____ | d. very strange |
| 5. explorer _____ | e. walked and nearly fell over |

Q3. Identify the correct word to complete each statement. Write your answer on the space provided.

population	civilisation
headings	report

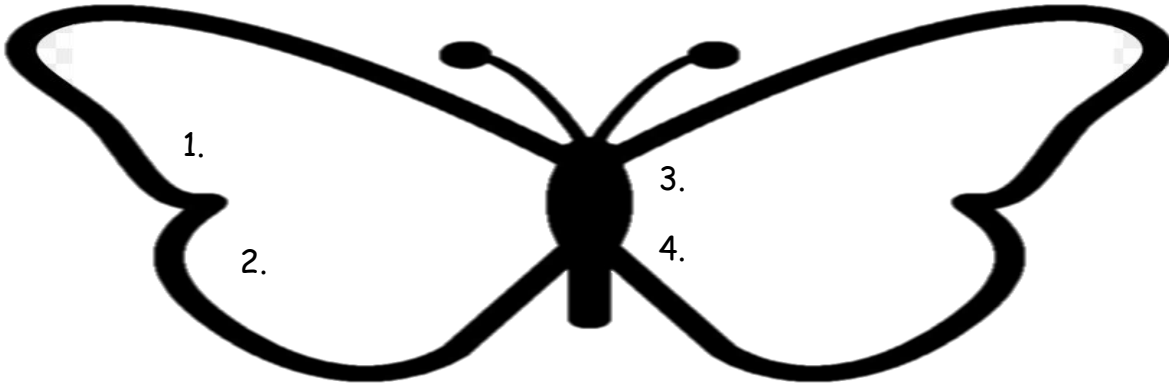
1. Greek _____ is over four thousand years old.
2. Mohamed wrote a news _____ about Qatar.
3. Greece has a _____ of over ten million people.
4. He wrote the sentences under different _____ .

SPELLING

Q4. Identify the correct spelling in each row.

- | | | |
|------------|----------|----------|
| 1. weight | weght | waight |
| 2. stretch | streitch | strietch |
| 3. eihtg | eight | aight |
| 4. scratch | scracth | sccratch |

Q5. List two-syllable words with long vowel sound at the beginning.



Q6. Write the correct word to complete each sentence. Use the word with *ci* or *ti* that sound like *sh*.

1. Something that is very old is _____.
2. When you wait for a long time, you have to be very _____.
3. Greece has a _____ of over ten million people.
4. A _____ is someone who plays music.
5. I ate the chocolate cake. It was _____.
6. Jewelry has a _____ metal.

LANGUAGE BUILDING

Q7. Identify the forms of sentences. Write S if it is a statement, Q if question and E for exclamation.

1. The capital city of Qatar is Doha. ____
2. How many oryx did you see? ____
3. I love pizza! ____
4. May I borrow your pencil? ____
5. What a lovely dress! ____
6. I am studying at Oscar Academy. ____

Q8. Change the direct speech into reported speech.

1. Mohamed said, "I am hungry."
Mohamed said that _____.
2. Yousef said, "I can't drive."
Yousef said _____.
3. Mum said, "I like drinking coffee."
Mum said _____.
4. The students said, "We are going to a trip."
The students said _____.

Q9. Identify if the underlined word is a verb or an adjective.

1. My mum is cooking a delicious pizza. _____
2. I saw some shining stars. _____
3. The roaring lion is coming. _____
4. The students are reading quietly. _____

Q10. Change the underlined word into a phrasal verb. Write the correct answer on the space provided.

put it off / got rid of / broke down / speed up

1. The printer stopped working. _____
2. I threw away my old clothes. _____
3. She had to go more quickly because she was late for work. _____
4. He had homework to do but he did it later. _____

GRAMMAR

Q11. Identify the correct present continuous tense in each sentence.

is	watching / starting /
are	coming / playing

1. You _____ with us later.
2. He _____ his new business.
3. They _____ a movie together on Tuesday.
4. The children _____ football match this afternoon.

Q12. Write the correct word/s to complete the sentences. Use so, such a, such an, such correctly.

1. The parade was _____ amazing!
2. Those players are _____ fast runners.
3. My father is _____ kind man.
4. It's _____ interesting movie that I've watched it many times.

Q13. Write the correct form of the verb using past simple passive. Choose your answer inside the boxes.

was
were

written	stolen
killed	eaten

1. Six donuts _____ by her.
2. A snake _____ by a cat.
3. My phone _____ by someone.
4. A letter _____ by the teacher.

Q14. CRITICAL THINKING QUESTION

How are you going to promote and maintain the cleanliness in Qatar? Write your answer in two sentences using the present continuous tense of the verb.

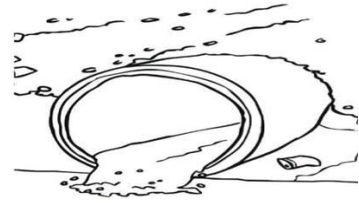
(am, is, are + ing form of the verb)



1. _____
2. _____

Q15. READING COMPREHENSION: Read the poem and answer the comprehension questions below.

Polluted



Long gone are the days of untouched
nature,

unspoiled by human hands.

What has become of our planet?

Our rivers are crying for help.

Poisoned by discarded wrappers,
dumped and littered with bottles,

contaminated with plastic bags,
abandoned without concern.

Oily, murky waters,
gloomy and tangled with waste,



pungent and polluted.

Wildlife at risk,
unsafe and exposed in their habitats,
confined by danger.

A carpet of hazards,
a menacing monster,
the thief of the natural world.

Careless humans corrupting Earth's
beauty,

interfering with Mother Nature.

The stench of human betrayal.

Our rivers are crying for help.

1. Which word means the same as "dark and dirty"? Circle one.

- a. stench
- b. careless
- c. murky

2. Which rubbish item is not mentioned in the poem? Circle one.

- a. plastic bags
- b. crisp packets
- c. wrappers

3. Find and copy a word which means the same as "worry".

4. Fill in the missing word.

unsafe and _____ in their habitats

5. Do you think humans will cause less water pollution in the future? Why?



OSCAR ACADEMY

Under the Supervision of Ministry of Education and Higher Education

A.Y. 2023 -2024

'Oscar Builds Readers and Leaders'

رؤية وزارة التربية والتعليم والتعليم العالي

الريادة في توفير فرص تعلم دائمة ومبتكرة ذات جودة عالية للمجتمع القطري



Summary Worksheet for the Mid- Exams Second Semester, 2023-2024

Subject: Français

Year: 5 / _____

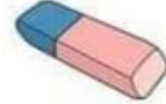
Name: _____


Q1: J'écris les noms des objets de la classe :

Une gomme - un livre - une trousse - une règle - un crayon -
un Cartable - le père














Q2: Je relie par une flèche :

- | | |
|---------------|--------|
| 1. Je | vas |
| 2. Tu | vais |
| 3. Il /elle | allons |
| 4. Nous | va |
| 5. Vous | vont |
| 6. Ils /elles | allez |


Q3 :Ecris les nombres

11	12	13	14
15	16	17	18
19	20		



Q4 :Mets les activités sous les images

Je prend une douche / je prends mon petit déjeuner / Je me réveille à 7 heures /je m’habille / je rentre à la maison
je me brosse les dents / j’attends le bus



Q5 : Complète le mois de l'année :

janvier			avril		juin
		Septembre		Novembre	

Q6 : Composez le nom de la matière

1. S - n - i - e - e - c : _____

2. s - H - r - e - t - i - o - I : _____

3. o - g - r - p - h - e - i - é : _____

4. s - - h - t - a - M : _____

5. e - u - q - i - t - s - a - l - p / t - r - A : _____

6. p - r - o - s - t : _____

7. s - i - a - ç - n - a - r - F : _____

Q7 : Réponds aux questions :

1. Qu'est ce qu'il ya dans ton cartable ?

2. Qu'est ce qu'il ya dans ta trousse ?




Summary Worksheet for the Mid-Exams
Second Semester, 2023-2024

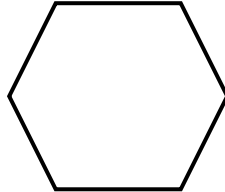
Subject: Math	Year: 5/ _____
Name: _____	

Q1. Identify and write the names of the following shapes. (Use the word in the box as a guide.)

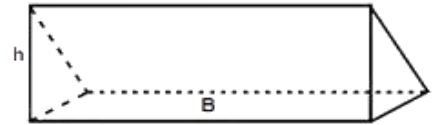
tetrahedron	pentagon	triangular prism	cuboid	square
hexagon	triangle	square-based pyramid	hexagonal prism	



a: _____



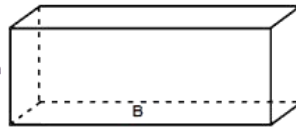
b: _____



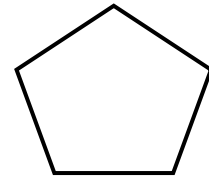
c: _____



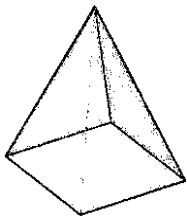
d: _____



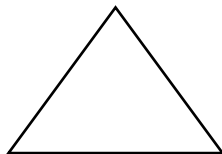
e: _____



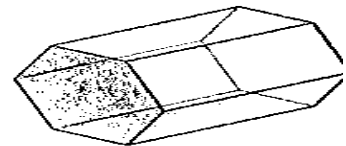
f: _____



g: _____



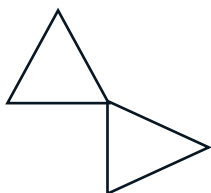
h: _____



i: _____

Q2. Identify and write how these shapes have been transformed. (Use the words in the box as a guide)







Reflected	Translated	Rotated
-----------	------------	---------



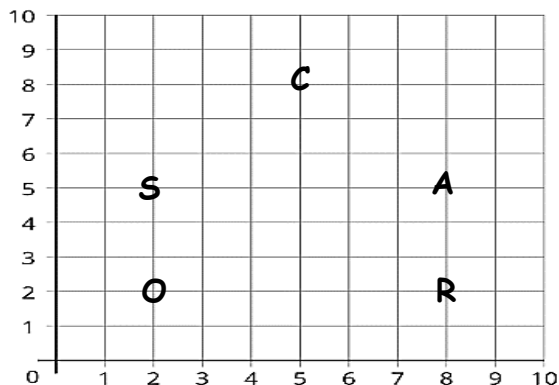




Q3. Complete the table by writing the properties of the named shapes.

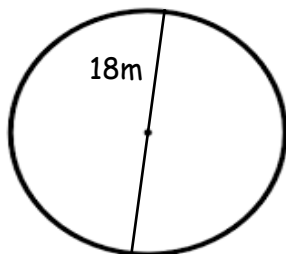
Shape	Number of equal sides	Number of equal angles	Number of right angles	Number of lines of symmetry
Rectangle 				
Rhombus 				
Regular hexagon 				
Equilateral triangle 				
Square 				
Right-angled isosceles triangle 				

Q4. Join the points on the grid to form shapes. Write out the coordinates of each vertex of the shape formed.



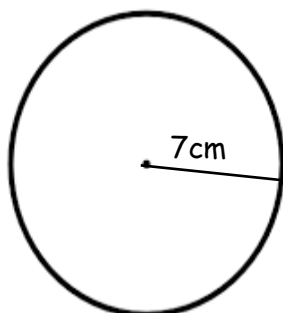
S = _____
 C = _____
 R = _____
 A = _____
 O = _____

Find the radius and diameter of each circle.



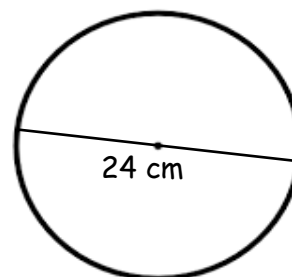
Radius: _____

Diameter: _____



Radius: _____

Diameter: _____



Radius: _____

Diameter: _____

Q5. A. Convert these mixed numbers to improper fractions.

a) $2\frac{1}{3} =$

b) $5\frac{7}{8} =$

c) $6\frac{3}{10} =$

d) $9\frac{1}{4} =$

B. Change these to mixed numbers.

1) $\frac{9}{4} =$

2) $\frac{19}{2} =$

3) $\frac{17}{3} =$

4) $\frac{7}{6} =$

C. Reduce these fractions to their simplest form.

1) $\frac{2}{10} =$

2) $\frac{5}{10} =$

3) $\frac{10}{25} =$

4) $\frac{2}{5} =$

Q6. Solve the following fraction problems.

A) Find the common denominator for fractions in each addition and write the answers in their simplest form.

1) $\frac{4}{5} + \frac{3}{10}$

2) $2\frac{1}{2} + 6\frac{3}{11}$

B) Subtract these fractions. Simplify the answer if needed.

1) $\frac{2}{3} - \frac{5}{9} =$

2) $4\frac{6}{7} - 1\frac{1}{3} =$

C) Write >, < or = between each pair of fractions.

1) $\frac{3}{4} \square \frac{5}{6}$

2) $\frac{7}{12} \square \frac{2}{7}$

3) $\frac{4}{10} \square \frac{2}{5}$

Q7. Use the answer to the first calculation to complete the others.

a) $456 \div 6 = 76$

b) $128 \div 8 = 16$

$456 \div 3 = \square$

$128 \div 4 = \square$

$456 \div 12 = \square$

$16 \times 8 = \square$

$456 \div 76 = \square$

$128 \div \square = 32$

Q8. Divide these numbers, using the long or short method.

a) $6 \overline{)192}$

b) $8 \overline{)984}$

c) $5 \overline{)1314}$

d) $7 \overline{)798}$

e) $74 \overline{)407}$

f) $52 \overline{)520}$

g) $87 \overline{)384}$

Q9. A. Divide each number by multiples of 10.

1) $50 \div 10 =$

2) $90 \div 10 =$

3) $630 \div 10 =$

4) $800 \div 10 =$

5) $70 \div 20 =$

6) $280 \div 40 =$

7) $50 \div 30 =$

8) $160 \div 40 =$

B. Divide each number by multiples of 100

1) $300 \div 100 =$

2) $900 \div 100 =$

3) $2700 \div 100 =$

4) $800 \div 200 =$

5) $4200 \div 200 =$

6) $7500 \div 200 =$

Q10. Evaluate and complete the division table.

Operation	Dividend	Divisor	Quotient	Remainder
$365 \div 8 = ? \text{ r?}$				
$? \div 9 = 83$				
$632 \div 7 = ? \text{ r?}$				
$? \div 3 = 217 \text{ r } 2$				
$295 \div 3 = ? \text{ r?}$				

Q11. Critical Thinking Questions/Qatar Identity:

Solve the following:

A. The radius of the center circle of the Lusail stadium football pitch is approximately 12.25 cm. What do you think would be the diameter of the circle and why?

B. Rashid was packing to move to another office. He packed $3\frac{2}{5}$ boxes on Tuesday and $2\frac{9}{10}$ boxes on Wednesday. After everything was moved to his new office on Wednesday afternoon, he only found $4\frac{1}{4}$ boxes. How many boxes were missing?

C. Evaluate the following and decide whether to round the answer up or down is reasonable.

1. At a market stall, boxes can hold up to **30** figs. The seller has **745** figs to put into boxes. How many boxes will he need?

2. Ahmed has saved up **QR.175** to buy some chickens. They each cost **QR.19**. How many chickens can he buy?

3. Malak wants to save **QR.7** a week to buy a new school bag costing **QR. 146**. How many weeks will it be before she can buy the bag?



OSCAR ACADEMY
Under the Supervision of Ministry of Education and Higher
Education
A.Y. 2023-2024



'Oscar Builds Readers and Leaders'

رؤية وزارة التربية والتعليم والتعليم العالي
الريادة في توفير فرص تعلم دائمة ومبتكرة ذات جودة عالية للمجتمع القطري

Summary Worksheet for the Mid-Exams
Second Semester, 2023-2024
Q.H - Year 5
مادة / التاريخ القطري

الصف : الخامس ()

الاسم /

س1/ اختر الإجابة الصحيحة من بين البدائل التالية :

1 – من الأزياء القطرية الرجالية :

الثوب .

العباءة .

البخنق .

الدّراعة .

2 – ما يقدمه الزّوج من حلي ومجوهرات وملابس قبل الزواج ، يقصد به :

الدّزة .

العباءة .

البخنق .

الدّراعة .

3 – من المقومات البشرية للمجتمع القطري :

السّكان .

البيئة البحرية .

الحياة الطبيعية .

اللغة .

4 – من المقومات الثقافية للمجتمع القطري :

البيئة .

الاقتصاد .

السّكان .

اللغة .

5 - من مقومات المجتمع القطري الطبيعية :

- الأرض .
- الدين .
- اللغة .
- السياسة .

6 - صدرَ الدّستور الدائم لدولة قطر في عام

- 2000 م
- 2001 م
- 2002 م
- 2004 م

7 - تمّ إصدار الدّستور الدائم لدولة قطر في عهد الشيخ

- علي بن عبد الله آل ثاني .
- خليفة بن حمد آل ثاني .
- حمد بن خليفة آل ثاني .
- تميم بن حمد آل ثاني .

8 - تمّ إجراء الاستفتاء القطري على الدّستور الدائم والموافقة على بنوده في عام

- 2000 م
- 2001 م
- 2002 م
- 2003 م

9 - يتكون الدّستور القطري من

- ثلاث أبواب .
- أربعة أبواب .
- خمسة أبواب .
- ستة أبواب .

10 - تم تشكيل لجنة إعداد الدستور الدائم لدولة قطر في عام

1999 م .

2000 م .

2001 م .

2002 م .

11- الفئة التي تمثل أعلى نسبة من السكان في دولة قطر هي :

الأطفال .

الشباب .

كبار السن .

الإناث .

12- يرجع ارتفاع نسبة العمالة الوافدة بدولة قطر إلى :

حسن المعاملة .

ارتفاع مستوى المعيشة .

اعتدال المناخ .

كثرة الأماكن السياحية .

س12/ أجب عن الاسئلة الآتية بإجابات مناسبة :-

1- وضح أهم المقومات الأساسية للمجتمع القطري :

أ-

ب-

2- أعطي أمثلة لأهم العادات القطرية في شهر رمضان :

أ-

ب-

3 - أعطي ثلاثة أمثلة لأهم الحقوق التي نص عليها الدستور القطري :

أ/

ب/

ج/

4- اذكر المقصود بالتركيب النوعي للسكان ؟

.....

س13 - بم تفسر :

1/ قلة تركيز السكان في المناطق الجنوبية والشرقية في قطر .

..... -

2/ تركيز السكان في مدينة الدوحة .

أ/

ب/

ج/

3/ ارتفاع نسبة الذكور بدولة قطر .

أ/

ب/

س14 عدد عوامل النمو السكاني في دولة قطر ؟

أ/

ب/

س15 قارن بين الزيادة الطبيعية وغير الطبيعية من حيث المفهوم :

الزيادة غير طبيعية	الزيادة الطبيعية
.....
.....

(بالتوفيق)



'Oscar Builds Readers and Leaders'

رؤية وزارة التربية والتعليم والتعليم العالي
الريادة في توفير فرص تعلم دائمة ومبتكرة ذات جودة عالية للمجتمع القطري

Summary Worksheet for the Mid-Exams
Second Semester, 2023-2024
(Rel- Year - 5)
مادة / التربية الإسلامية

الاسم : الصف : الخامس ()

أولاً : مجال / القرآن الكريم التذكير بنعم الله تعالى تفسير (سورة التين)

س1 / اختر الإجابة الصحيحة مما بين الأقواس :

أ - معنى كلمة " طور سينين " في قوله تعالى (والتين والزيتون * وطور سينين) :

(جبل الطور في سيناء - المدينة المنورة - جبل الحجاز)

ب - ما المقصود بـ " البلد الامين " في سورة التين :

(بيت المقدس - مكة المكرمة - المدينة المنورة)

ج - معنى كلمة " غير ممنون " في قوله تعالى : " فلهم أجر غير ممنون " :

(غير موجود - غير جديد - غير مقطوع)

د - معنى كلمة " أحسن تقويم " في قوله تعالى " لقد خلقنا الإنسان في أحسن تقويم " :

(أحسن صورة - أحسن صوت - أحسن أصدقاء)

س2 / قال الله تعالى (لقد خلقنا الإنسان في أحسن تقويم) استنتج من الآية نعمة عظيمة من نعم الله تعالى على الإنسان .

.....

س3 / اذكر اثنين من الدروس المستفادة من سورة التين ؟

أ -

ب -

س4 / ضع علامة (✓) أمام العبارة الصحيحة وعلامة (x) أمام العبارة غير الصحيحة :

أ - يجوز للإنسان أن يقسم بما شاء من المخلوقات . ()

ب - ميّز الله تعالى الإنسان على سائر المخلوقات . ()

ج - طور سيناء هو الجبل الذي كلم الله تعالى عليه نبيه عيسى عليه السلام . ()

س5 / أكمل الحديث الشريف

عن أنس بن مالك - رضي الله عنه - أن رسول الله - صلى الله عليه وسلم - قال : " لا تباعضوا ، ولا تحاسدوا ، ولا يحل لمسلم وأخاه فوق " . رواه الشيخان

س6 / اختر الإجابة الصحيحة مما بين الأقواس :

- 1 - راوي حديث سلامة الصدر هو :
(عمرو بن عقبة الأنصاري - أنس بن مالك - عبدالله بن عمر)
- 2 - أنس بن مالك - رضي الله عنه - كناه رسول الله - صلى الله عليه وسلم :
(أبا حمزة - أبا عمير - أبا عبدالله)
- 3 - حديث سلامة الصدر يحث على :
(الهجر - التدابر - التآخي)
- 4 - السلام والمصافحة عند اللقاء يؤديان إلى :
(المحبة ونشر الأمن - التقاطع والهجران - التباغض ونشر الرعب)
- 5 - خدم أنس بن مالك - رضي الله عنه - الرسول - صلى الله عليه وسلم :
(ثماني سنوات - تسع سنوات - عشر سنوات)

س7 / صل بين الكلمة والمعنى المناسب لها :

لا تتمنوا زوال النعمة عن الآخرين

لا تباعضوا

لا يكره بعضكم بعضًا

لا تحاسدوا

يقاطع

لا تدابروا

لا تعادوا بعضكم بعضًا

يهجر

س8 / عدد الأمور التي نهانا عنها النبي صلى الله عليه وسلم في حديث سلامة الصدر :

- أ -
ب -
ج -
د -

ثالثاً : مجال / العقيدة الإسلامية (الثواب والعقاب في اليوم الآخر)

س9 / أكمل الفراغات التالية بالإجابة الصحيحة :-

- معنى (اليوم الآخر) هو
- أهمية الإيمان باليوم الآخر: ليحاسب الله تعالى فيه الناس على
- من أسماء اليوم الآخر ، ،
- خلق الله تعالى الجنة لتكون للصالحين الطائعين ، وتكون النار للعصاة المجرمين .

س10 / ضع علامة (√) أمام العبارة الصحيحة وعلامة (x) أمام العبارة غير الصحيحة :

- 1 - من أسماء اليوم الآخر يوم الجمعة . ()
- 2 - يجمع الله تعالى يوم القيامة كلّ الناس للحساب . ()
- 3 - من ثمرات الإيمان باليوم الآخر أنه يعين الظالم على ظلمه . ()
- 4 - جعل الله يوم الحساب لمحاسبة الناس على أعمالهم . ()

رابعاً : مجال / الفقه الإسلامي (أحكام الصلاة شروطها وأركانها)

س11 / اختر الإجابة الصحيحة ، ثم ضعها في مكانها المناسب :

(شروط صحة الصلاة - تكبيرة الإحرام - أركان الصلاة - الصلاة - الركوع)

- أ - التعبّد لله تعالى بأقوال وأفعال مخصوصة تُفتتح بالتكبير وتُختتم بالتسليم يشير المفهوم إلى تعريف
- ب - هي أفعال يقوم بها المصلي قبل الدخول في الصلاة ولا تصح الصلاة بدونها يعرف هذا التعريف بـ
- ج - الأقوال والأفعال الداخلة في الصلاة ونقصان ركن منها يؤدي إلى بطلانها يشير هذا التعريف إلى

س12 / اذكر اثنين من شروط صحة الصلاة ؟

- 1 -
- 2 -

س13/ وضح حكم الصلاة (صحيحة / باطلة) في الحالات الآتية :

الحالة	الحكم
- صلى دون أن يتوضأ
- صلى صلاة الظهر مكتملة الشروط والأركان
- صلى الفرض جالسًا مع قدرته على القيام

خامسًا : مجال / السيرة والبحوث الإسلامية (الرحمة والعفو)

س14/ اختر الإجابة الصحيحة مما يأتي :

- كان نتيجة عفو النبي - صلى الله عليه وسلم - عن أهل مكة :

- إصرارهم على الكفر . هروبهم من مكة .
 دخولهم في دين الله أفواجًا . محاربتهم للرسول - صلى الله عليه وسلم -
- كان أهل الطائف النبي - صلى الله عليه وسلم :-
 يؤذون يحبون
 يناصرون يدافعون عن

س15 / علام يدل قول اخدمت رسول الله ﷺ ، والله ما سبني سباً قط ولا قال لي : أفٍ قط " ؟

س16 / علل : دخول أهل مكة في دين الإسلام عام الفتح ؟

سادسًا : مجال / الآداب والأخلاق الإسلامية (آداب الاستئذان)

س17/ وضح مفهوم الاستئذان ؟

س18/ عدد اثنين من آداب الاستئذان ؟

أ/ ب/

س19/ ضع علامة (√) أمام السلوك الصحيح وعلامة (x) أمام السلوك غير الصحيح :

- 1/ وقفت سلمى أمام بيت صديقتها فطرقت الباب ثم تتحت جانبًا . ()
2/ ذهبت لزيارة صديقك وطرقت الباب 3 مرات ولم يفتح لك فانصرفت غاضبًا . ()
3/ حكم الاستئذان في الإسلام واجب . ()
4/ أردت الاستفسار من معلّمك عن معلومة فذهبت إلى غرفة مكتبه ودخلت دون استئذان . () (بالتوفيق)



OSCAR ACADEMY

Under the Supervision of Ministry of Education and Higher Education
A.Y. 2023-2024

'Oscar Builds Readers and Leaders'

رؤية وزارة التربية والتعليم والتعليم العالي
الريادة في توفير فرص تعلم دائمة ومبتكرة ذات جودة عالية للمجتمع القطري



Summary Worksheet for the Mid- Exams Second Semester, 2023-2024

Subject: Science

Year: 5 / ____

Name:

Answer the following questions.

Q1. Draw lines to match the item to the amount of water used.

Taking a shower

80 Liters

Leaving the tap running for 6
minutes

100 Liters

An average person's daily water use

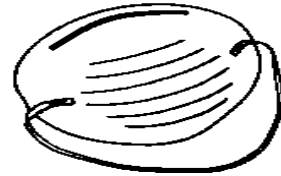
30 Liters

Taking a bath

10-25 Liters

Q2. Answer these questions.

a. What does the picture show?



b. Why should you wear a mask like this on a construction site or in a polluted environment?

Q3. Match the words in the box to the descriptions. Write the words in the correct spaces.

Asthma	Filter	Grid	Settlement tank	Dust particles	Hepatitis A
Typhoid	Cholera	Polio	Chlorination	Filter bed	Bilharzia

1. _____ is a disease that causes shortness of breath.
2. Blood in urine, tiredness. _____
3. _____ is when chlorine is added to kill remaining germs.
4. Yellow skin, tiredness, fever. _____
5. The water is filtered through layers of sand. Fine particles and large microbes are trapped. _____
6. Fever, bad headache, pain, and stiffness of the neck and back.

7. Sudden sickness and diarrhea. _____
8. Headache, high temperature, sickness, and diarrhea. _____
9. _____ traps leaves, branches and other objects.
10. _____ chemicals are added to the water to make small particles settle to the bottom
11. _____ are tiny pieces of dirt.
12. _____ is to remove dirt or impurities; a device for removing dirt.

Q4. Read carefully and select the correct answer for each question.

1. The type of clouds that are fluffy fair-weather clouds.
 - a. Cumulus
 - b. Stratus
 - c. Cirrus

2. _____ is one of the sources of air pollution.
- a. **Smoking**
 - b. **Location**
 - c. **Storage**
3. What is the most common gas in the atmosphere?
- a. **Oxygen**
 - b. **Nitrogen**
 - c. **Carbon dioxide**
4. One of the greenhouse gases is _____
- a. **Carbon dioxide**
 - b. **Oxygen**
 - c. **Nitrogen**
5. The method best used in separating fresh water from seawater.
- a. **Desalination**
 - b. **Evaporation**
 - c. **Conservation**
6. Global warming can be reduced by _____
- a. **Building houses**
 - b. **Cutting down trees**
 - c. **Planting more trees**
7. To care for something and to prevent from being harmed or wasted.
- a. **Weather**
 - b. **Conserve**
 - c. **Pollution**
8. To waste, spoil or harm something.
- a. **Average**
 - b. **Misuse**
 - c. **Empower**


9. One of the consequences of global warming is.

- a. Lower temperature
- b. Stronger winds
- c. Falling of sea levels

10. Very small living things that contaminate food or water and causes diseases.

- a. Filter
- b. Chlorine
- c. Germs

Q5. Draw and label in the box, one way of contaminating water.



Q6. Mark each of these sentences as TRUE or FALSE.

1. The force of gravity holds the atmosphere around the Earth. _____
2. There is an air filter in a computer and car engine. _____
3. Most of the air that makes up the atmosphere is within 30 kilometres of the Earth's surface. _____
4. The higher you rise in the atmosphere, the hotter it gets. _____
5. If the heat temperature is trapped in the atmosphere, the Earth's temperature will change by rising _____
6. Water treatment plant is used to purify water. _____

7. Washing and sanitizing hands spread diseases. _____

Critical Thinking Questions

Answer the following questions.

1. Suggest four steps that can be taken to reduce air pollution.

2. Describe the causes of water vapour to enter the atmosphere.

3. Discuss the purpose of an air filter in a machine

Qatar National Identity Question.

Q1. Trees help to clean the air by releasing oxygen into the atmosphere. Give the name of the Qatar national tree. _____

Q2. Suggest two ways you can conserve water in Qatar.



Summary Worksheet for the Mid- Exams
Second Semester, 2023-2024

Subject: Social Studies

Year: 5 / ____

Name: _____

Q1. Write T if the statemet is correct and F if it's not.

1. Assembly means removing some components from raw materials. _____
2. Commercial farming means growing crops to meet family needs. _____
3. Bakery is a primary industry. _____
4. The Secretariat is one of the organs of the UN. _____
5. There are 3 types of industry. _____
6. Greenhouses are found in Qatar. _____
7. There are 6 main organs for the UN _____
8. Fifteen countries joined UN in the beginning. _____
9. The Universal Declaration of Human Rights was adopted in 1945. _____

Q2. Colour the UN flag and write what the following represents:

olive branches - _____

the world map - _____



Q3. Differentiate between physical and human factors of farming by sorting the items given below into the correct column.

Green house	Flat land	Plenty rainfall	Sunlight	Pesticides
Machines	Terraces	Fertilizers	Rich soil	Temperature

Physical factors	Human factors

Q4. Match the following by writing the correct letter in the first column

	1. Industry that provides services and not goods.	a. Industry
	2. Production of goods and services.	b. Fertilizers
	3. Process of extracting rocks from the Earth.	c. Pesticides
	4. Chemicals that helps plant to grow.	d. Tertiary industry
	5. Step-like ledges cut into mountain to make flat farmland.	e. Subsistence farming
	6. Process used to obtain minerals from the Earth's crust.	f. UN Declaration of Human Rights
	7. Growing crops to meet family needs.	g. Terraces
	8. Chemicals used to kill pests and insects.	h. Quarrying
	9. Putting together parts to make a product.	i. Mining
	10. The document where human right is written	j. Assembly

Q5. Give examples for the following:

- Extractive industry: _____
- Mining: _____
- Quarrying: _____
- Raw materials: _____
- Manufacturing industry: _____
- Assembly: _____
- Alteration: _____
- Extraction: _____
- Tertiary industry in Qatar: _____

Q6. Circle the correct answer.

1. (**Photosynthesis / Fertilizers**) is the process by which green plants make their food.
2. When only crops are grown we call this as (**subsistence / arable**) farming.
3. (**Greenhouse / Terraces**) is a structure built with plastic or glass where the conditions of farming are controlled.
4. (**Extraction / Alteration**) means molding or modifying raw materials into final product.
5. (**Assembly / manufacturing**) is the process of making goods from raw materials.
6. Industrial revolution began in (**Qatar / England**) in (**18th / 20th**) century.
7. (**Commercial / Mixed**) farming is when both growing crops and raising livestock.
8. The unfair treatment of people because of their religion, nationality, color, age or gender is called (**democracy / discrimination**).

Q7. Circle the correct answer.

1. Imagine that you are starting a airline industry named Doha Airlines.

Is it a **primary** or **secondary** or **tertiary** industry?

2. Imagine that you are starting a car manufacturing industry.

Is it coming under the process of **extraction** or **alteration** or **assembly**?

Q8. Name the main organs of the UN

Q8. CRITICAL THINKING

1. Why did people grow crops near rivers?

2. Why do you think the UN was formed?

3. What do you think would have happened if the industrial revoultion did not begin in the 18th century?
