

Summary Worksheet for the Mid-Exams Second Semester, 2023-2024 Arabic- y.4

المادة : اللغة العربية	الصف : الرابع
الاسم /	الصف /

أولاً:- القراءة

النص الأول : اقرأ الفقرة الآتية (المصباح القديم) ثم أجب :-

في الليل .. تَأَلَّقَ مِصْبَاحُ الْكَهْرَبَاءِ. بَاتَ يَنْشُرُ ضِيَاءَهُ عَلَى أَفْرَادِ الْعَائِلَةِ ، وَيُصْنَعِي إِلَيْهِمْ ، وَهُمْ يَتَسَامَرُونَ .. قَالَ مَسْرُورًا :
- مَا أَكْثَرَ سَعَادَتِي ، وَأَنَا أَنْشُرُ الضِّيَاءَ ! سَمِعَهُ مِصْبَاحٌ نَفْطِيٌّ قَدِيمٌ ، يَرْقُدُ عَلَى ظَهْرِ خِزَانَةٍ ، فَقَالَ لَهُ :
- مَا أَعْظَمَكَ يَا وَادِي وَأَنْتَ تَنْفَعُ الْآخِرِينَ!

1- صُغِ عِلَامَةٌ (✓) أَمَامَ الْعِبَارَةِ الصَّحِيحَةِ، وَعِلَامَةٌ (X) أَمَامَ الْعِبَارَةِ غَيْرِ الصَّحِيحَةِ.

- أ/ مُضَادُّ (تَنْفَعُ) هُوَ : تُعِيدُ . ()
ب/ مَعْنَى (تَأَلَّقَ) هُوَ : أَضَاءَ . ()
ج/ مِنْ صِفَاتِ الْمِصْبَاحِ النَّفْطِيِّ أَنَّهُ مَغْرُورٌ . ()

2 - لِمَاذَا شَعَرَ الْمِصْبَاحُ الْكَهْرِبَائِيُّ بِالسُّرُورِ ؟

3- مَتَى حَدَثَتْ أَحْدَاثُ الْقِصَّةِ ؟

4 - مِنْ قَائِلِ هَذِهِ الْعِبَارَةِ " مَا أَعْظَمَكَ يَا وَادِي وَأَنْتَ تَنْفَعُ الْآخِرِينَ! "

5 - مِنْ قَائِلِ هَذِهِ الْعِبَارَةِ " مَا أَكْثَرَ سَعَادَتِي ، وَأَنَا أَنْشُرُ الضِّيَاءَ ! "

اقْرَأ النَّصَّ (أسماء بنت أبي بكر) ، ثُمَّ أَجِبْ عَنِ الْأَسْئَلَةِ :

وُلِدَتْ أَسْمَاءُ بِنْتُ أَبِي بَكْرٍ الصِّدِّيقِ ﷺ فِي مَكَّةَ قَبْلَ الْهِجْرَةِ ، وَقَدْ أَسْلَمَتْ وَهِيَ صَغِيرَةٌ ، وَلَقَّبَهَا النَّبِيُّ ﷺ فِي أَثْنَاءِ الْهِجْرَةِ بِذَاتِ النَّطَاقِينَ ؛ لِأَنَّهَا شَقَّتْ نِطَاقَهَا نِصْفَيْنِ لِرَبْطِ الطَّعَامِ وَالشَّرَابِ .
تَزَوَّجَتْ مِنَ الزُّبَيْرِ بْنِ الْعَوَامِ ﷺ ، وَبَعْدَ حَيَاةٍ حَافِلَةٍ بِالْجِهَادِ وَالْعِلْمِ وَالْعِبَادَةِ ، تُوَفِّيَتْ عَنْ عُمُرٍ يَنَاهِزُ مِئَةَ عَامٍ .

1- ما مضاد كلمة " صَغِيرَةٌ " في جملة " وقد أسلمت وهي صغيرة " .

A ثقيلة

B كبيرة

C قليلة

D كثيرة

2- ما اللقب الذي أُطلق على أسماء بنت أبي بكر رضي الله عنها

A ذات النطاقين

B المباركة

C أم المسلمين

D ذات النورين

اقْرَأْ نَصَّ (مصعب بن عمير) ، ثُمَّ أَجِبْ عَنِ الْأَسْئَلَةِ التَّالِيَةِ :

وُلِدَ مُصْعَبُ بْنُ عُمَيْرٍ ﷺ فِي مَكَّةَ ، وَنَشَأَ شَابًّا مَدْلَلًا مُنْعَمًا ، ثُمَّ أَسْلَمَ وَكَتَمَ إِسْلَامَهُ ، فَلَمَّا عَلِمَتْ أَسْرَتُهُ بِإِسْلَامِهِ حَبَسُوهُ ثُمَّ أَطْلَقُوهُ ، وَبِعَثَهُ الرَّسُولُ ﷺ سَفِيرًا إِلَى الْمَدِينَةِ ، لِيُعَلِّمَ النَّاسَ الْقُرْآنَ وَيُصَلِّيَ بِهِمْ ، شَهِدَ بَدْرًا وَأُحُدًا ، وَكَانَ مِنْ شُهَدَاءِ غَزْوَةِ أُحُدٍ ، وَكَفَّنَ فِي رِذَائِ خَشْنِ قَاصِيرٍ .

1- ما مضاد كلمة حَبَسُوهُ في جملة " حَبَسُوهُ ثُمَّ أَطْلَقُوهُ " .

A سَجَنُوهُ

B أَطْلَقُوهُ

C رَبَطُوهُ

D أَسْرُوهُ

2- ما مضاد كلمة " خشن " في جملة " وكُفِّنَ في رداءٍ خشنٍ قصيرٍ .

- A ثقيل
B واسع
C ناعم
D خفيف

3- ما الفعل الغالب على النص السابق ؟

- A الماضي .
B الأمر .
C المُستقبل .
D المُضارع .

أجب عن الأسئلة الآتية :-

أ/ في أي غزوة استشهد مُصعب بن عمير ؟

ب/ لماذا أرسل الرسول "صلي الله عليه وسلم" مُصعب بن عمير " رضي الله عنه " سفيراً إلى المدينة ؟

ثانياً : التدريبات اللغوية

س1/ أكمل الفراغات التالية بأداة استفهام مناسبة :-

(متى - هل - أين - كم)

- 1-..... تحبُّ القراءة ؟
2-..... عدد الرؤوس في علم قطر ؟
3-..... يقع ملعب البيت ؟
4-..... تستيقظُ في الصباح ؟

س2/ أكمل الجمل بأداة نفي مناسبة :-

- 1-..... أهملُ صلاتي عادةً .
(لا - لن - لم)
2-..... يسافرُ أبي غدًا .
(لا - لن - لم)

3 - أكتب الواجب أمس .

(لا - لن - لم)

س3/ أكمل بفعل أمر مناسب :

1- على نظافة بلدك .

2- إلى شرح المعلّمة .

3- قوانين دولة قطر .

س4/ حوّل الجملة التالية إلى المثني مرّة و إلى الجمع مرّة أخرى :-

- اكتب الواجب .

- للمثني :-

- للجمع :-

ثالثاً : التعبير الكتابي

في حُدودِ خمسة أسطرٍ اكتب رسالةً إلى صديقك حمد تخبره أنك فُزت في مسابقةِ القرآن الكريم ،
وحصولك على المركز الأول ، وتشكره فيها على تشجيعه لك ، مع مُراعاةِ تَوْظِيْفِ عَلاماتِ التَّرْقِيمِ وَخَلْوِ
الكَتَابَةِ مِنَ الأَخْطَاءِ الإملائية .

المُرْسَل إليه

التحية

موضوع الرسالة

المرسل

في حُدودِ خمسةِ أسطرٍ اكتب رسالةً إلى والدك المسافر تخبره أنك فُزت في مسابقةِ الرسم ،
ووصولك على المركز الأول ، وتشكره فيها على تشجيعه لك، مع مُراعاةِ تَوْظيفِ عَلاماتِ التَّرقيمِ وَخَلْوِ
الكَتَابَةِ مِنَ الأَخْطَاءِ الإملائية .

المُرسل إليه

التحية

موضوع الرسالة

المرسل

فقرة إملاء منتصف الفصل الدراسي الثاني

يوم الاثنين الموافق 2023/2/27

ذهب الطلاب مع المُعَلِّم في رحلةٍ إلى متحف قطر الوطني، وشاهدوا التراث القطري ،
واستمعوا كثيرًا ، ثم عادوا إلى البيت في فرحٍ وسرورٍ .

3. Once you have done with your work and want to have a hard copy of your document, what icon you must need to click?

- a. **Print** b. **Close** c. **Open**

4. It contains the Arabic and English letters with or without numbers.

- a. **Numerical Data** b. **Alphabetical Data** c. **Formulas**

5. Are data that are found on the formula bar and represent the contents of the cell together?

- a. **Formulas** b. **Numerical Data** c. **Alphabetical Data**

6. Contains numbers only. This kind of data is used for mathematical operations.

- a. **Alphabetical Data** b. **Formulas** c. **Numerical Data**

7. Orientation is where the height of the page is greater than its width.

- a. **Landscape** b. **Portrait** c. **Shortcut**

8. Orientation is where the width of the page is greater than its height.

- a. **Shortcut** b. **Portrait** c. **Landscape**

9. Is the title that appears at the top of the page.

- a. **Footer** b. **Header** c. **Insert**

10. Is what appears at the end of the page, such as page numbers?

- a. **Insert** b. **Header** c. **Footer**

Q3. Write the correct answer on the blank line.

- **Enumerate the four types of margin in Microsoft Word.**

1. _____
2. _____
3. _____
4. _____

- Write the four types of text aligning in Microsoft Word

1. _____
2. _____
3. _____
4. _____






- Write the two kinds of page orientation

1. _____
2. _____

- Enumerate the three types of data in Microsoft Excel

1. _____
2. _____
3. _____

Q4. Write "T" if the statement is correct, and "F" if it's not.

1.  This icon is what we called it Microsoft Word. _____.
2.  We used this icon to open an old file. _____.
3.  To create new file. We need to click this icon? _____.
4.  To print new file, we need to click this icon? _____.
5.  This icon is what we called it Microsoft Excel. _____.

Q5. Critical Thinking Question

If you ever have a chance to be a developer of the Microsoft Office, What kind of toolbar you will add in Excel? Why?

Q6. Cyber Security

Tick (✓) if the statement is correct and cross it out (X) if the statement is wrong.

Long term use of electronic devices may result good health issues.

Including poor eyesight, eyestrain, and curvature of the spine is the effects of wrong use of computer.

To maintain our health, we should leave the house and play with our friends instead of using computer for a long time.



**Summary Worksheet for the Mid- Exams
Second Semester, 2023-2024**

Subject: English	Year: 4 / _____
Name: _____	

Spelling/Vocabulary

Q1. Arrange the following words in order.

insect	fox	kangaroo	ape	unicorn	bee
--------	-----	----------	-----	---------	-----

1. _____ 2. _____ 3. _____
4. _____ 5. _____ 6. _____

Q2. Match the group with the correct collective noun.

- | | |
|---------------------|----------|
| _____ 1. chocolates | a. herd |
| _____ 2. grapes | b. box |
| _____ 3. elephants | c. flock |
| _____ 4. birds | d. pack |
| _____ 5. cards | e. bunch |

Q3. Count and write how many syllables does each word have.

1. bottle _____ 2. laptop _____ 3. paper _____ 4. dance _____ 5. cut _____

Q4. Create and draw a compound word.

1.

□	+	□	=	□
---	---	---	---	---

_____ + _____ = _____

2.

□	+	□	=	□
---	---	---	---	---

_____ + _____ = _____

Q5. Identify the word described in each sentence. Use the words inside the box below.

character

narrator

prop

scenery

setting

- _____ 1. It is the person who tells the story.
- _____ 2. It is an object that is used in a play or film.
- _____ 3. It is the furniture and painted background on a theatre stage.
- _____ 4. It is a person in a play or story.
- _____ 5. It is the time or place in which the events of a play or story happen.

Q6. Complete the table by giving examples of words that have:

silent b	prefix -re	soft c

GRAMMAR

Q7. Transform the following into possessive noun.

1. The tail belonging to the dog _____
2. The bag belonging to the girl _____
3. The book belonging to the child _____
4. The ball belonging to the boy _____

Q8. Write little or few to complete the sentence.

1. I have _____ books in the bookshelf.
2. She put a _____ salt to her pasta.
3. We found _____ puppies hiding behind the tree.
4. I need _____ water to wash my hand.

Q9. Write the correct plural form of the following words.

1. foot _____ 2. mouse _____ 3. child _____
4. woman _____ 5. man _____ 6. sheep _____

Q10. Create a two questions and two statements based on the picture below. Use correct punctuation marks.

**EXPO
2023
DOHA
QATAR**



Question:

1. _____

2. _____

Statement:

1. _____

2. _____

Q11. Use the first conditional (if +present tense; future- will) to complete the sentence.

1. (do, play)

If I _____ my homework, I _____ outside with my friends.

2. (wake, miss)

If I _____ up late, I _____ the bus.

3. (help, give)

If she _____ me, I _____ her a present.

Q12. Underline the adverb of time in each sentence.

1. Lizzy always goes to bed at seven o'clock.

2. We should do our task now.

This material is only a sample of questions for revision and is not an exam paper. Students must study from the given syllabus.

3. I often see her walking with her dog.
4. I jog with my cousin sometimes.
5. It will be weekend soon.

Q13. Write the correct question tag to each sentence.

1. It is exciting to travel by air, _____
2. We are the best students, _____
3. They are funny, _____
4. She is pretty and kind, _____
5. He is helpful and considerate, _____

READING

Q14. Read the poem. Answer the questions that follow.

The River

I am a snake,
slithering around the bend,
sliding into the sea where my scales blend.

I am a dancer,
swirling, twisting, flowing,
fast and wild, calm and slowing.

I am a ribbon,
shimmering and bright,
covering the parcel of the riverbed,
glistening in the light.

I am a blanket,
encompassing and wide,
peaceful and still as I glide.

I am a lion,
fierce and savage,
turbulent and rough as I ravage.

Questions:

1. Which creature or object is the river compared to when it is described as "wide"?

- a. ribbon b. blanket c. snake

2. Number the events from 1-4 to show the order that they occur in the poem.

- The river is describes as "fast".
- The river is compared to a lion.
- The river glistens in the light.
- The river moves into the sea.

3. Match the noun to its corresponding action.

dancer	gliding
blanket	sliding
snake	glistening
ribbon	twisting

4. Which word means the same as 'calm'?

- a. happy b. peaceful c. noisy

5. What is the river described as when it is 'slithering'? _____

WRITING

Q15. Write a 4-line poem about the following theme:

- a. nature b. animals c. friendship

Summary Worksheet for the Mid- Exams
Second Semester, 2023-2024

Subject: Français

Year: 4 / _____


Name: _____

Q1 : Compte et écrit les nombres :

1 un	2 Deux	3 trois	4 Quatre	5 cinq
6 six	7 sept	8 huit	9 neuf	10 dix

1.  _____ ballons.


2.  _____ carrés

3.  _____ rectangle .

4.  _____ Cahiers

5.  _____ circles

6.  _____ voitures

7.  _____ filles

Q2: Nommez les objets de la classe

Une règle - un stylo - une trousse - une gomme - un livre - un cartable














Q3 : Complète par u ou o :



Une voit...re



une tort...e



un r....b....t



une j....pe



des l...nettes

Q4 : Mets les mots en ordres :

1. Comment / Bonjour / ça / madame / va ?

2. très / ça / merci / va / bien

3. vtu / appelle ? / Comment / t'

Q5 : Donne le nom de chaque image

Le bébé / le frère / la soeur / le grand - père / le père / la grand- mère / la mère





OSCAR ACADEMY

Under the Supervision of Ministry of Education and Higher Education

A.Y. 2023-2024

'Oscar Builds Readers and Leaders'

رؤية وزارة التربية والتعليم والتعليم العالي
الريادة في توفير فرص تعلم دائمة ومبتكرة ذات جودة عالية للمجتمع القطري




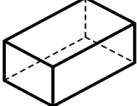
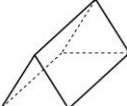
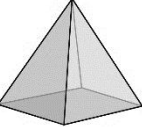
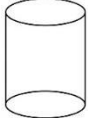
Summary Worksheet for the Mid-Exams Second Semester, 2023-2024

Subject: Math

Year: 4 / _____

Name: _____

Q1. Complete the table below

Shape	Name	Faces	Vertices	Edges
				
				
				
				
				

Q2. Multiply the following numbers.

$$\begin{array}{r} \text{a) } 4 \quad 4 \quad 4 \\ \times \quad \quad 4 \\ \hline \end{array}$$

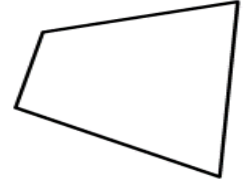

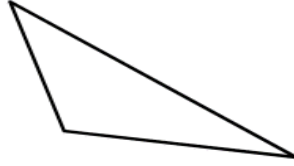
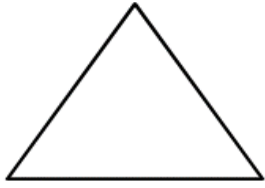
$$\begin{array}{r} \text{b) } 5 \quad 6 \quad 2 \\ \times \quad \quad 6 \\ \hline \end{array}$$

$$\begin{array}{r} \text{c) } 3 \quad 4 \quad 6 \\ \times \quad 1 \quad 7 \\ \hline \end{array}$$

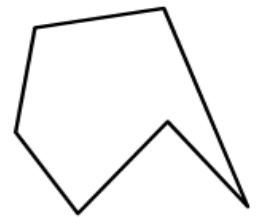
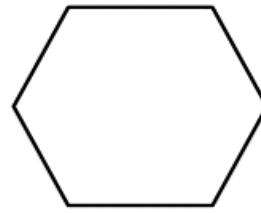
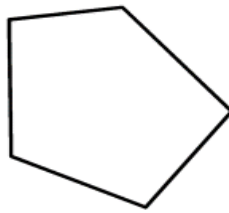
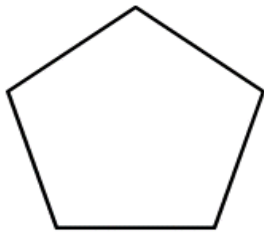
$$\begin{array}{r} \text{d) } 4 \quad 2 \quad 3 \\ \times \quad 1 \quad 6 \\ \hline \end{array}$$

This material is only a sample of questions for revision and is not an exam paper. Students must study from the given syllabus.

Q3. Circle the regular or irregular polygons and name each of these shapes.



Regular / Irregular	Regular / Irregular	Regular / Irregular	Regular / Irregular
Name _____	_____	_____	_____



Regular / Irregular	Regular / Irregular	Regular / Irregular	Regular / Irregular
Name _____	_____	_____	_____

Q4. Multiply the following numbers.

a) $76 \times 10 =$ _____

d) $45 \times 20 =$ _____

b) $25 \times 10 =$ _____

e) $50 \times 30 =$ _____

c) $32 \times 20 =$ _____

f) $15 \times 30 =$ _____

Q5. Write true if the statement is correct, and false if the statement is wrong.

_____ a) A kite is a quadrilateral.

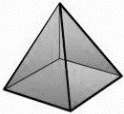
_____ b) Heptagon has 6 sides.

_____ c) Rectangles have only one line of symmetry.

_____ d) A scalene triangle has no equal sides and no equal angles.

This material is only a sample of questions for revision and is not an exam paper. Students must study from the given syllabus.

_____ e) A polygon is a 2-D shape with straight sides.

_____ f)  This shape is called a square-based pyramid.

_____ g) Letter "H" has a pair of parallel lines.

_____ h)  This shape is a tetrahedron

_____ i) 660 divides by 10 equals to 6600.

_____ j) 512 is divisible of 2 and 4.

Q6. Use the grid method to complete the following multiplication tables

a) 25×55

x	20	5
50		
5		

b) 46×76

x	20	5
50		
5		

Q7. Look at the numbers inside the stars to answer the following questions.



a. Write a number that is exactly divisible by 6. _____

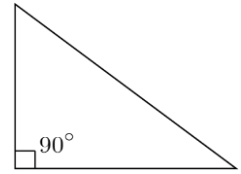
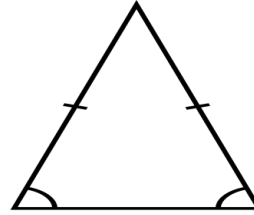
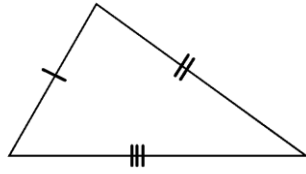
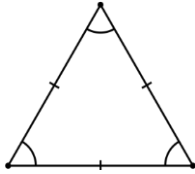
b. Which number is exactly divisible by 2 and 3? _____

c. Which numbers are divisible by both 5 and 10? _____

d. Which number is exactly divisible by 3? _____

e. Which numbers are divisible by 2 and 4? _____

Q8. Identify the triangles based on the sides and name them.



Q9. Divide the following numbers.

<p>a) $3 \overline{) 185}$</p>	<p>b) $4 \overline{) 728}$</p>	<p>c) $6 \overline{) 912}$</p>
<p>d) $823 \div 3$</p>	<p>e) $835 \div 4$</p>	<p>f) $946 \div 6$</p>

g)

$$\begin{array}{r}
 \square \square r \square \\
 4 \overline{) 183} \\
 - \square \square \square \quad (40 \times 4) \\
 \hline
 \square \square \\
 - \square \square \quad (5 \times 4) \\
 \hline
 \square
 \end{array}$$

h)

$$\begin{array}{r}
 \square \square r \square \\
 6 \overline{) 539} \\
 - \square \square \square \quad (80 \times 6) \\
 \hline
 \square \square \\
 - \square \square \quad (9 \times 6) \\
 \hline
 \square
 \end{array}$$

Q10. Word Problems (Integration of Qatar identity)

a. Sofiya saves Qr. 25 per month. How much will she save in a year?


b. In Al Thumama football stadium, there are 300 seats in a row and there are 30 rows. How many people can be seated to watch a football match?

c. 63 people are going to the Panda Park in Al Khor. There are 7 cars to take people to the park. How many will go in each car if the same number goes in each car?

d. The reel of electric cable is 500 m in length. It is cut into 9 m in length. How many 9 m lengths will there be and how much is left over?

Q 11. Critical Thinking Question

Choose from these numbers to answer each question.



a) Which two of these numbers leave a remainder of 1 when divided by 5?

b) Which two of these numbers divide exactly by 3?

c) Which number leaves a remainder of 3 when divided by 4?



'Oscar Builds Readers and Leaders'

رؤية وزارة التربية والتعليم والتعليم العالي
الريادة في توفير فرص تعلم دائمة ومبتكرة ذات جودة عالية للمجتمع القطري

Summary Worksheet for the Mid-Exams

Scanned Semester, 2023-2024

Q.H - Year 4

مادة : التاريخ القطري

الاسم : الصف : الرابع ()

س1/ ختر الإجابة الصحيحة من بين البدائل التالية :

1 - يطلق على مجموعة من المواطنين يمارسون نشاطهم على إقليم جغرافي محدد :

. السيادة

. الدولة

. الإقليم

. الشعب

2 - المكان الذي تمارس عليه الدولة سيادتها :

. السلطنة

. السيادة

. الدولة

. الإقليم

3 - مجموعة من الامتيازات التي يتمتع بها الفرد تضمن له العيش الكريم :

. الواجبات

. الحقوق

. الدستور

. اللغة

4- تعدُّ أهم واجبات الفرد :

. التعليم المجاني

. الدفاع عن الوطن.

. المساواة في الحقوق

. الرّعاية الصّحية المتميزة

5 - أفعال يجب على الفرد القيام بها تجاه المجتمع والوطن يقصد بها :

- | | |
|-----------------------|--|
| الحقوق . | |
| الواجبات . | |
| طاعة ولي الأمر . | |
| أداء الخدمة الوطنية . | |

س12/ ضع علامة (√) أمام العبارة الصحيحة وعلامة (x) أمام العبارة الخاطئة :

- 1- من وظائف الدولة الدفاع عن الوطن وحفظ الأمن . ()
- 2- السلطة هو المكان الذي تمارس عليه الدولة سيادتها ويشمل اليابس والماء . ()
- 3- يعدّ الحق في المساواة أحد الحقوق المحددة بالقوانين . ()
- 4- مجموعة من الامتيازات التي يتمتع بها الفرد تضمن له العيش الكريم تسمى الواجبات . ()
- 5 - إيذاء الناس وإزعاجهم من واجباتي تجاه الآخرين . ()
- 6 - الدفاع عن الوطن واجب ديني ووطني يلتزم به كافة أفراد المجتمع . ()
- 7- احترام القوانين يعتبر حماية لحقوق كافة المواطنين . ()

س13/ أجب عن الاسئلة التالية بإجابات مناسبة :-

1 - عدد وظائف الدولة ؟

- أ-
- ب-
- ج-

2 - اذكر الخدمات التي تقدمها دولة قطر في مجال التعليم ؟

- أ-
- ب-
- ج-

س14/ أعطى أمثلة عن العلاقة بين الحقوق والواجبات فيما يأتي :

أ - ما هو واجبك نحو حقّ التعليم ؟

.....

ب - أعطي أمثلة عن الممتلكات العامة في دولة قطر ؟

1-

2-

3-

ج - ما المقصود بالواجبات ؟

.....

د- عدد الحقوق التي تقدمها دولة قطر لمواطنيها ؟

1-

2-

3-

س15 صل العبارة من العمود (أ) بما يناسبها من العمود (ب):

(ب)

(أ)

المواطنون متساوون في
الحقوق والواجبات العامة .

يشترط الحصول على البطاقة
الصحية التي تصدرها الدولة

أنشأت المفوضية السامية
لحقوق الإنسان .

ينص الدّستور القطري على أن :

للاستفادة من الخدمات
الصحية المقدمة في مراكز
الرعاية الصحية . 0

(بالتوفيق)



OSCAR ACADEMY
Under the Supervision of Ministry of Education and Higher Education
A. Y. 2023-2024



'Oscar Builds Readers and Leaders'
رؤية وزارة التربية والتعليم والتعليم العالي
الريادة في توفير فرص تعلم دائمة ومبتكرة ذات جودة عالية للمجتمع القطري

Summary Worksheet for the Mid-Exams Second Semester, 2023-2024 Religion- y.4

المادة : التربية الإسلامية	الصف : الرابع
الاسم /	الصف /

أولاً:- الحديث الشريف

س1/ اختر الإجابة الصحيحة مما يأتي :

- أهلك الله تعالى أبرهة وجيشه بـ :

أ- حجارة صغيرة ب - رياح شديدة ج - سيول وأمطار

- معنى كلمة أبابيل :

أ - جماعات متفرقة ب - كبيرة الحجم ج - جماعات متتابعة

س2/ أين ولد النبي صلى الله عليه وسلم ؟

.....

س3/ من هو النبي الذي بنى الكعبة المشرفة ؟

.....

س4/ ضع إشارة (✓) أمام العبارة الصحيحة ، وإشارة (✗) أمام العبارة غير الصحيحة :

- وُلِدَ النبي صلى الله عليه وسلم في عام الفيل . ()

- أهلك الله تعالى أبرهة وجيشه برياح شديدة . ()

ثانياً:- الحديث الشريف

س1/ اختر الإجابة الصحيحة مما يأتي :

1- كلمة أحكم في الحديث المقصود بها :

أ - واحد منكم ب - جميع المسلمين ج- كلّ فرد في المجتمع

2- أمّ المؤمنين عائشة رضي الله عنها زوجة الرسول صلى الله عليه وسلم وابنة الصحابي :

أ - أبو بكر الصديق رضي الله عنه ب - عمر بن الخطاب رضي الله عنه ج - عثمان بن عفان رضي الله عنه

س2/ أكمل كتابة الحديث الشريف إلى آخره :

عن عائشة رضي الله عنها قالت : قال رسول الله صلى الله عليه وسلم " أن الله يحبّ

"

س3/ ضع علامة (✓) أمام العبارة الصحيحة ، علامة (✗) أمام العبارة غير الصحيحة :

- كلمة يتقنه معناها يؤديه بسرعة شديدة . ()

- إتقان العمل يؤدي إلى زيادة الثقة بين الناس . ()

س4/ أتعرف على راوي : الحديث أم المؤمنين رضي الله عنها

- اسمها :

- فضلها :

ثالثاً:- العقيدة الإسلامية

س1/ اختر الإجابة الصحيحة مما يأتي :

1- الإيمان بالرسول الركن من أركان الإيمان .

أ- الرابع ب- الثالث ج- الثاني

2- الإيمان بالرّسل أحد أركان

أ- الإسلام ب- الإيمان ج- الإحسان

س2/ اذكر اثنين من مهام الرّسل عليهم السلام

- أ-
- ب -

س3/ اكتب أمام كلّ رسول المعجزة التي أيده الله تعالى بها :

الرسول عليه السلام	معجزته
- محمد صلى الله عليه وسلم
- صالح عليه السلام
- موسى عليه السلام
- عيسى عليه السلام

رابعًا: الفقه الإسلامي

س1/ اختر الإجابة الصحيحة مما يأتي :

- من انتقض وضوؤه أثناء الصّلاة فإنّه :

أ- لاشيء عليه وصلاته صحيحة ب- يعيد الوضوء ويعيد الصّلاة ج- يعيد الصّلاة فقط

- من انتقض وضوؤه ولم يجد الماء فإنّه :

أ- يتيمم ويصلي ب- يصلي بلا طهارة ج- لا يصلي

س2/ عدد أسباب الحدث ؟

- أ- ب -
- ج- د-

س3/ ضع علامة (✓) أمام العبارة الصحيحة ، وعلامة (✗) أمام العبارة غير الصحيحة :

أ/ نمسح القدمين في التيمم . ()

ب/ أمسح وجهي في التيمم . ()

ج/ من أسباب الحدث النوم العميق . ()

خامساً : السيرة

س1/ اختر الإجابة الصحيحة فيما يأتي :

1- أرسل النبي صلى الله عليه وسلم الصحابي رضي الله عنه لأهل يثرب ليعلمهم القرآن والدين .

أ- عمر بن الخطاب رضي الله عنه ب- مصعب بن عمير رضي الله عنه ج- خالد بن الوليد رضي الله عنه

2- يثرب هو الاسم القديم لـ

أ- مكة المكرمة ب- المدينة المنورة ج- اليمن

س2/ من هي القبائل التي كانت تسكن المدينة المنورة .

أ- ب- ج-

س3/ ضع إشارة (✓) أمام العبارة الصحيحة ، وإشارة (✗) أمام العبارة غير الصحيحة :

- في موسم الحج حرص النبي صلى الله عليه وسلم أن يدعو القبائل الوافدة إلى الإسلام . ()

- كان العرب قبل الإسلام يحجون إلى أصنامهم في الكعبة المشرفة . ()

- بايع أهل يثرب الرسول صلى الله عليه وسلم في مكان قريب من مكة يسمى العقبة . ()

سادساً : الآداب

س1/ اختر الإجابة الصحيحة مما يأتي :

1- " أدخل أنا الغار أولاً يارسول الله حتى إذا كان شيء يؤدي لم يصبك . "

قائل العبارة السابقة هو الصحابي

أ- أبو بكر الصديق رضي الله عنه ب- عمر بن الخطاب رضي الله عنه ج - عثمان بن عفان رضي الله عنه

2- المُسلم الصادق يقتدي بـ

أ- الرّسول صلى الله عليه وسلم ب- الزملاء ج- الأصدقاء

س2/ قال النّبِيّ صلى الله عليه وسلم (من صلى علي واحدة صلى الله عليه بها عشراً)

- استنتج فضل الصّلاة على النّبِيّ صلى الله عليه وسلم من الحديث الشريف .

س3/ ضع إشارة (✓) أمام العبارة الصحيحة ، وإشارة (×) أمام العبارة غير الصحيحة :

- أ- أرسل الله تعالى رسوله محمداً صلى الله عليه وسلم للعرب خاصة . ()
- ب - من صلى على النّبِيّ مرّة صلى الله عليه بها خمساً . ()
- ج - على المُسلم أن يقتدي برسول الله صلى الله عليه وسلم . ()



OSCAR ACADEMY

Under the Supervision of Ministry of Education and Higher Education
A.Y. 2023-2024

'Oscar Builds Readers and Leaders'

رؤية وزارة التربية والتعليم والتعليم العالي
الريادة في توفير فرص تعلم دائمة ومبتكرة ذات جودة عالية للمجتمع القطري



Summary Worksheet for the Mid- Exams Second Semester, 2023-2024

Subject: Science	Year: 4 / _____
Name: _____	

Q1. Draw the objects in the correct column in the table below.

stone	plastic	glass	paper	wood	rubber	metal

Q2. Match Column A with column B.

	Column A	Column B
	1. magnetic	a. Will bounce light off in surface.
	2. reflective	b. Is attracted to magnet
	3. absorbent	c. Easy to bend.
	4. permeable	d. Will easily catch fire and burn quickly
	5. translucent	e. Is able to soak up liquid easily
	6. flexible	f. Solid, firm and rigid, not easily broken
	7. hard	g. Will allow liquids and gasses to pass through it.
	8. flammable	h. Will stop electricity or heat from transferring
	9. insulating	i. Will let some lights pass through them
	10. transparent	j. Light passes through easily and objects are seen clearly.

Q3. Identify the materials that each product is made from.

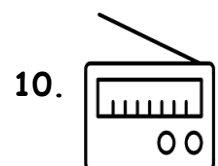

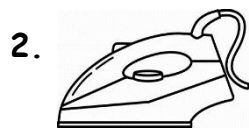
Product	Material
1. Bottle	
2. Coin	
3. Car tyre	
4. Football	
5. Guitar	
6. Ship	
7. Skyscraper	
8. Spoon	
9. bowl	

Q4. Sort the metals and non-metals. Use the table below.

Copper	steel	glass
Gold	diamond	marble
Aluminum	polythene	lead
Sulphur	ceramics	iron

Metals	Non-metals

Q5. Decide which of these things is a heat source. Write Yes if the object is a heat source and No if it is not.



Q6. Write true if the statement is correct and false if it's not.

- _____1. Heat is a liquid.
- _____2. Heat makes ice melt.
- _____3. Metal expands more than glass when it is heated.
- _____4. Heat makes water freeze.
- _____5. All metals are magnetic.
- _____6. All metals are solid.
- _____7. Metals conduct heat and electricity.
- _____8. Plastics melt and burn.
- _____9. Plastics conduct heat and electricity.
- _____10. Ceramics are made from clay.


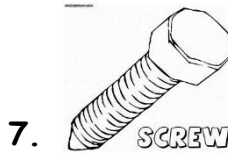
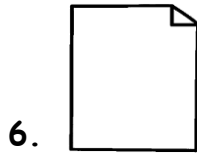

Q7. The picture shows someone cooking over a firewood. Heat is transferred to the food. Complete the sentences with the words in the box.



Radiation, conduction, convection

- 1. Heat from the fire travels through the metal pot by _____.
- 2. Heat travels through the water inside the pot by _____.
- 3. Heat travels from the hot firewood to the metal pot by _____.

Q8. Conductors and Insulators. Label the objects below whether they are conductors or insulators.



Q9. Critical thinking Question:

1. Why are the electric wires used in homes usually covered with materials like plastics or rubber?

Q10. Qatar National Identity.

The image below is the *ASIAN CUP* trophy received by the Qatar football team as the Champion for this year. In what material this trophy was made? Is it a conductor or insulator? Why? Why not? Write your answer inside the box.





'Oscar Builds Readers and Leaders'

رؤية وزارة التربية والتعليم والتعليم العالي
الريادة في توفير فرص تعلم دائمة ومبتكرة ذات جودة عالية للمجتمع القطري

Summary Worksheet for the Mid- Exams Second Semester, 2023-2024

Subject: Social Studies

Year: 4 / _____

Name: _____

Q1. Fill in each blank using the correct word from the box.

Hajj

570

nomads

Makkah

clan

values

twelve

culture

norms

- _____ is one of the important cities in Arabian Peninsula.
- _____ are the people who move from one place to another.
- _____ AD is the year in which Prophet Muhammad was born.
- _____ is a group of people who are members of a particular family.
- _____ is a sacred journey to Makkah and one of the five pillars of Islam.
- _____ is the idea of those qualities in life that is worthy.
- Expected standard behavior accepted by a society is known as _____.
- People's way of living in a community is called _____.
- When his mother died, Prophet Muhammad (p.b.u.h) went to live with his _____.
- There are _____ months in Islamic calendar.

Q2. Write T if the statement is correct and F if it's not.

1. Prophet Mohammed (pbuh) and his followers migrated to Makkah. _____
2. Prophet (pbuh) had four daughters. _____
3. Objects made by human like tools are known as artifacts. _____
4. People began to live in small groups in cities and towns. _____
5. People can live alone. _____
6. Prophet (pbuh) married at the age of 40. _____
7. The city of Medina had great importance before Islam. _____
8. Jewelry is an example of values. _____
9. The Kaaba was built by Prophet Ibrahim and his son (pbut). _____
10. Prophet Muhammad (pbuh) earned his living as a shepherd. _____

Q3. Match the following by writing the correct letter in the first column

	1. The law of Islam.	a. Shariah
	2. The month during which Muslims fast from sunrise to sunset.	b. Muharram
	3. People's way of behaving in a society.	c. Banu Hashim
	4. Group of people living in the same area.	d. Da'wah
	5. The first month in the Islamic calendar.	e. Culture
	6. A person who was chosen by Allah to spread his message.	f. community
	7. Clan to which Prophet Mohammed (pbuh) belonged.	g. Messenger
	8. Invitation to Islam.	h. Ramadan

Q4. Correct the underlined words in the following sentences and write them below.

a. Invitation to Islam is called Shar'iah.

b. Messengers are the people who move from one place to another.

c. Ramadan is the last month of the Islamic calendar.

d. Bedouins are groups of many large families that are related to each other.

Q5. Fill in the information about Prophet Muhammad (pbuh).

Date of Birth: _____
Place of birth: _____
Father's name: _____
Mother's name: _____
Grandfather's name: _____
Uncle's name: _____
Wife's name: _____
Clan name: _____
Tribe name: _____

Q6. Classify the following. Write V for values, N or norms and A for Artifacts.

1. Always saying truth. _____
2. Pots made by ancient people. _____
3. Tools made using stone for hunting. _____
4. Customs and traditions. _____
5. Showing mercy and helping old people. _____
6. Honesty _____
7. Clothes worn _____
8. Equality _____
9. Folkways _____

Q7. Answer the following.

1. What are the 5 pillars of Islam?

_____ , _____ , _____ , _____ , _____

2. What are the months of Islamic calendar?

_____ , _____ , _____ , _____ ,

_____ , _____ , _____ , _____ ,

Q8. CRITICAL THINKING

1. Write one of the benefits of fasting in the month of Ramadan.

2. Why do people form communities?

3. Why was Makkah importance even before Islam?
