

## Summary Worksheet for the Mid-Exams Second Semester, 2023-2024 Arabic- y.3

مادة : اللغة العربية	الصف : الثالث
الاسم / .....	الصف / .....

### أولاً:- القراءة

النص الأول : اقرأ الفقرة الآتية (المصباح القديم) ثم أجب :-

في الليل .. تَأَلَّقَ مِصْبَاحُ الْكَهْرَبَاءِ. بَاتَ يَنْشُرُ ضِيَاءَهُ عَلَى أَفْرَادِ الْعَائِلَةِ ، وَيُصْنَعِي إِلَيْهِمْ ، وَهُمْ يَتَسَامَرُونَ .. قَالَ مَسْرُورًا:  
- مَا أَكْثَرَ سَعَادَتِي ، وَأَنَا أَنْشُرُ الضِّيَاءَ ! سَمِعَهُ مِصْبَاحٌ نَفْطِيٌّ قَدِيمٌ ، يَرْقُدُ عَلَى ظَهْرِ خِزَانَةٍ ، فَقَالَ لَهُ :  
- مَا أَعْظَمَكَ يَا وَادِي وَأَنْتَ تَنْفَعُ الْآخَرِينَ!

1- ضَعِ عِلَامَةً (✓) أَمَامَ الْعِبَارَةِ الصَّحِيحَةِ، وَعِلَامَةً (X) أَمَامَ الْعِبَارَةِ غَيْرِ الصَّحِيحَةِ.

- أ/ مُضَادُّ ( تَنْفَعُ ) هُوَ : تُعِيدُ . ( )  
ب/ مَعْنَى ( تَأَلَّقَ ) هُوَ : أَضَاءَ . ( )  
ج/ مِنْ صِفَاتِ الْمِصْبَاحِ النَّفْطِيِّ أَنَّهُ مَغْرُورٌ . ( )

2 - لِمَاذَا شَعَرَ الْمِصْبَاحُ الْكَهْرِبَائِيُّ بِالسُّرُورِ ؟

3- مَتَى حَدَثَتْ أَحْدَاثُ الْقِصَّةِ ؟

4 - مِنْ قَائِلِ هَذِهِ الْعِبَارَةِ " مَا أَعْظَمَكَ يَا وَادِي وَأَنْتَ تَنْفَعُ الْآخَرِينَ! "

5 - مِنْ قَائِلِ هَذِهِ الْعِبَارَةِ " مَا أَكْثَرَ سَعَادَتِي ، وَأَنَا أَنْشُرُ الضِّيَاءَ ! "

اقْرَأ النَّصَّ (أسماء بنت أبي بكر) ، ثُمَّ أَجِبْ عَنِ الْأَسْئَلَةِ :

وُلِدَتْ أَسْمَاءُ بِنْتُ أَبِي بَكْرٍ الصِّدِّيقِ ﷺ فِي مَكَّةَ قَبْلَ الْهِجْرَةِ ، وَقَدْ أَسْلَمَتْ وَهِيَ صَغِيرَةٌ ، وَلَقَّبَهَا النَّبِيُّ ﷺ فِي أَثْنَاءِ الْهِجْرَةِ بِذَاتِ النَّطَاقِينَ ؛ لِأَنَّهَا شَقَّتْ نِطَاقَهَا نِصْفَيْنِ لِرَبْطِ الطَّعَامِ وَالشَّرَابِ .  
تَزَوَّجَتْ مِنَ الزُّبَيْرِ بْنِ الْعَوَامِ ﷺ ، وَبَعْدَ حَيَاةٍ حَافِلَةٍ بِالْجِهَادِ وَالْعِلْمِ وَالْعِبَادَةِ ، تُوَفِّيَتْ عَنْ عُمُرٍ يَنَاهِزُ مِئَةَ عَامٍ .

1- ما مضاد كلمة " صَغِيرَةٌ " في جملة " وقد أسلمت وهي صغيرة . "

A ثقيلة

B كبيرة

C قليلة

D كثيرة

2- ما اللقب الذي أُطلق على أسماء بنت أبي بكر رضي الله عنها .....

A ذات النطاقين

B المباركة

C أم المسلمين

D ذات النورين

اقْرَأْ نَص (مصعب بن عمير) ، ثُمَّ أَجِبْ عَنِ الْأَسْئَلَةِ التَّالِيَةِ :

وُلِدَ مُصْعَبُ بْنُ عُمَيْرٍ ﷺ فِي مَكَّةَ ، وَنَشَأَ شَابًّا مَدَلًّا مُنْعَمًا ، ثُمَّ أَسْلَمَ وَكَتَمَ إِسْلَامَهُ ، فَلَمَّا عَلِمَتْ أَسْرَتُهُ بِإِسْلَامِهِ حَبَسُوهُ ثُمَّ أَطْلَقُوهُ ، وَبِعَثَهُ الرَّسُولُ ﷺ سَفِيرًا إِلَى الْمَدِينَةِ ، لِيُعَلِّمَ النَّاسَ الْقُرْآنَ وَيُصَلِّيَ بِهِمْ ، شَهِدَ بَدْرًا وَأُحُدًا ، وَكَانَ مِنْ شُهَدَاءِ غَزْوَةِ أُحُدٍ ، وَكَفَّنَ فِي رِذَائِ خَشْنِ قَاصِيرٍ .

1- ما مضاد كلمة حَبَسُوهُ في جملة " حَبَسُوهُ ثُمَّ أَطْلَقُوهُ . "

A سَجَنُوهُ

B أَطْلَقُوهُ

C رَبَطُوهُ

D أَسْرُوهُ

2- ما مضاد كلمة " خشن " في جملة " وكَفِّنَ في رداءِ خشنٍ قصيرٍ .

A ثقيل

B واسع

C ناعم

D خفيف

3- ما الفعلُ الغالبُ على النَّصِّ السَّابِقِ ؟

A الماضي .

B الأمر .

C المُستقبل .

D المُضارع .

أجب عن الأسئلة الآتية :-

أ/ في أي غزوة استشهد مُصعب بن عمير ؟

.....

ب/ لماذا أرسلَ الرسولُ "صلي الله عليه وسلم" مُصعب بن عمير " رضي الله عنه " سفيراً إلى المدينة ؟

.....

**ثانياً : التدريبات اللغوية**

س1/ أكمل الفراغات التالية بأداة استفهام مناسبة :-

( متى - هل - أين - كم )

1-..... تحبُّ القراءة ؟

2-..... عدد الرؤوس في علم قطر ؟

3-..... يقع ملعب البيت ؟

4-..... تستيقظُ في الصباح ؟

س2/ أكمل الجمل بأداة نفي مناسبة :-

1-..... أهملُ صلاتي عادةً .

( لا - لن - لم )

2-..... يسافرُ أبي غدًا .

( لا - لن - لم )

المعلومات الواردة في هذه الوثيقة لا تحدد ما سيتم تناوله في الاختبار بعينه ، وهي فقط أمثلة توضيحية لبعض صياغات الأسئلة الواردة عن الموضوعات الرئيسية في المنهج .

3 - ..... أكتب الواجب أمس .

( لا - لن - لم )

س3/ أكمل بفعل أمر مناسب :

1- ..... على نظافة بلدك .

2- ..... إلى شرح المعلمة .

3- ..... قوانين دولة قطر .

س4/ حوّل الجملة التالية إلى المثني مرة و إلى الجمع مرة أخرى :-

- اكتب الواجب .

- للمثني :- .....

- للجمع :- .....

**ثالثاً : التعبير الكتابي**

في حُدودِ خمسة أسطرٍ اكتب رسالةً إلى صديقك حمد تخبره أنك فُزت في مسابقةِ القرآن الكريم ،  
وحرصوك على المركز الأول ، وتشكره فيها على تشجيعه لك ، مع مُراعاةِ تَوْظِيفِ عَلاماتِ التَّرْقِيمِ وَخَلْوِ  
الكَتَابَةِ مِنَ الأَخْطَاءِ الإملائية .

المُرْسَل إليه

التحية

موضوع الرسالة

المرسل

في حُدودِ خمسةِ أسطرٍ اكتب رسالةً إلى والدك المسافر تخبره أنك فُزت في مسابقةِ الرسم ،  
ووصولك على المركز الأول ، وتشكره فيها على تشجيعه لك، مع مُراعاةِ تَوْظيفِ عَلاماتِ التَّرقيمِ وَخَلْوِ  
الكَتَابَةِ مِنَ الأَخْطَاءِ الإملائية .

المُرسل إليه

التحية

موضوع الرسالة

المرسل

فقرة إملاء منتصف الفصل الدراسي الثاني

يوم الاثنين الموافق 2023/2/27

ذهبَ الطلابُ مع المُعَلِّمِ في رحلةٍ إلى متحف قطر الوطني، وشاهدوا التراث القطري ،  
واستمعوا كثيرًا ، ثم عادوا إلى البيت في فرحٍ وسرورٍ .



*'Oscar Builds Readers and Leaders'*  
رؤية وزارة التربية والتعليم والتعليم العالي  
الريادة في توفير فرص تعلم دائمة ومبتكرة ذات جودة عالية للمجتمع القطري


## Summary Worksheet for the Mid- Exams Second Semester, 2023-2024

<b>Subject: COMPUTER 3</b>	<b>Year: 3 / _____</b>
<b>Name: _____</b>	

**Q1. Write T if the statement is true and F if it is NOT.**

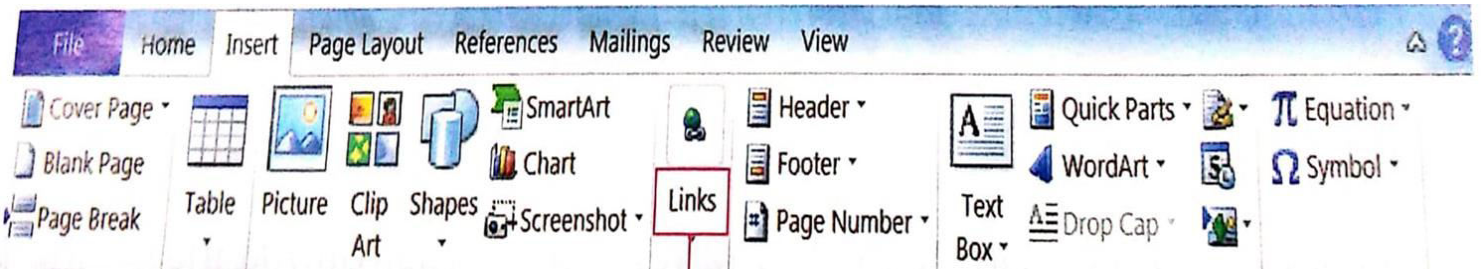
- a. The icon is the main element of the window system. \_\_\_\_\_
- b. You can move from one icon to another by using delete button. \_\_\_\_\_
- c. Opened icon contains a program. \_\_\_\_\_
- d. Date and time option allows you change the date and time. \_\_\_\_\_
- e. Files can be saved in folders. \_\_\_\_\_

**Q2. A. Label the tools in the "Home Page Menu" correctly.**



--	--	--	--	--

**B. Label the tools in the "Insert Menu" correctly**




**Q3. Chose from the options below and fill the blanks.**

1. We can \_\_\_\_\_ information on flash drives.  
a. **Icon**                      b. **save**                      c. **delete**
2. Flash drives are \_\_\_\_\_ to carry about.  
a. **Easy**                      b. **heavy**                      c. **huge**
3. \_\_\_\_\_ drives are attached to computer via USB ports.  
a. **Keys**                      b. **flash**                      c. **car**
4. To delete an icon you \_\_\_\_\_ click the mouse.  
a. **Flash**                      b. **right**                      c. **left**
5. The next step in deleting an icon is to \_\_\_\_\_ on delete.  
a. **Dvd**                      b. **click**                      c. **search**
6. When you click on \_\_\_\_\_ you will notice that the icon is gone.  
a. **paste**                      b. **save**                      c. **delete**
7. A folder is an icon which \_\_\_\_\_ other icons or files .  
a. **contains**                      b. **play**                      c. **icon**
8. All desktop main icons could be slightly \_\_\_\_\_ from one computer to another.  
a. **happy**                      b. **different**                      c. **ugly**
9. The \_\_\_\_\_ icon is used to store and retrieve files and folders that were deleted.  
a. **Cpu**                      b. **recycle bin**                      c. **folders**
10. A clipboard tool contains cut, copy and \_\_\_\_\_.  
a. **edit**                      b. **paste**                      c. **insert**

**Q4. Qatar Identity/Cyber security:**

Put a ✓ in the box if the statement is correct and x if wrong.

1. Cyber security in Qatar helps us identify risks related to hacking email.
  
2. Strong password prevents people from gaining access into personal photos during Doha Expo 2023 in our computer, phone or desktop.

**Q5. Critical Thinking Question:**

As a year 3 student taking computer lesson, in 2 sentences explain to a year 1 student the use of Recycle bin in computers.

1. \_\_\_\_\_  
\_\_\_\_\_  
\_\_\_\_\_  
\_\_\_\_\_

2. \_\_\_\_\_  
\_\_\_\_\_  
\_\_\_\_\_  
\_\_\_\_\_





Summary Worksheet for the Mid- Exams  
Second Semester, 2023-2024

Subject: English	Year: 3 / _____
Name: _____	

LANGUAGE (Sentence Building)

Q1. Write the correct past tense form of verb by adding *ed*.

verb	Past Tense
like	
wave	
stop	
use	
drop	

Q2. Identify the correct past tense to complete each sentence. Encircle your answer.

1. The falcon (fly / flew) in the sky.
2. The cat (ate / eat) some fish.
3. Malek (swam / swim) under the water.
4. Hassan (ride / rode) a water ski.
5. Uncle Tom (find / found) a mask.

**Q3. Identify the adverb in the word search and select the correct one to complete the sentences.**

w	n	o	i	s	i	l	y	p	u	y	r
q	w	a	s	l	o	w	l	y	d	f	t
x	c	a	n	g	r	i	l	y	v	b	f
z	q	u	i	e	t	l	y	x	c	v	g
t	r	w	h	a	p	p	i	l	y	q	w
y	z	e	a	s	i	l	y	x	c	v	b

1. The students laughed \_\_\_\_\_.
2. Mariam walks \_\_\_\_\_.
3. Ali enter the museum \_\_\_\_\_.
4. Fahad can do his spelling test \_\_\_\_\_.


**Q4. Find the opposites of these words.**

tall	dry	light	sad	enormous	hot
------	-----	-------	-----	----------	-----

1. cold - \_\_\_\_\_
2. happy - \_\_\_\_\_
3. wet - \_\_\_\_\_
4. short - \_\_\_\_\_
5. dark - \_\_\_\_\_

**GRAMMAR**

**Q5. Describe what were the people doing when the photographer took the pictures.**

1.  \_\_\_\_\_.



\_\_\_\_\_.



\_\_\_\_\_.



\_\_\_\_\_.

**Q6. Write what happened using simple past continuous (was / were + verb + ing).**

1. While the cat was sleeping, the mice

\_\_\_\_\_.



2. While the students were playing, Max

\_\_\_\_\_.



3. While Dan was watching TV, mum

\_\_\_\_\_.



**Q7. State two things that you must do in the school.**

1. \_\_\_\_\_

2. \_\_\_\_\_

**State two things that you mustn't do in the school.**

1. \_\_\_\_\_

2. \_\_\_\_\_

## SPELLING

Q8. Select the correct spelling of the given picture.

1.  elephant                      elefphant

2.  fotografph                      photograph

3.  dolphin                      dolpin

4.  alpabhet                      alphabet

5.  wheel                      whill

6.  wiskher                      whisker

Q9. Identify the compound noun by matching the word in the given picture.



speedboat



playground



sunflower



football



snowman

Q10. Write two sentences beginning with wh question word.

1. Wh \_\_\_\_\_

2. Wh \_\_\_\_\_

## READING COMPREHENSION

Q11. Read the story below and answer the following questions.

### THE TRUTH ABOUT SHARKS

It's hard to argue that sharks are one of the more fascinating creatures that live in the ocean. But are they fish? It's a common question asked by people of all ages.

Like fish, sharks have gills. Gills are used to filter oxygen from the water. But unlike fish, sharks are not made up of bones. Instead, their skeletons are made up of cartilage, which is the same gristly material that your ears and the tip of your nose is made up of.

Even though sharks are a type of fish, they do not have scaly skin like most fish. Their skin has a texture that feels exactly like sandpaper. This is because their skin is made up of tiny teeth-like structures called placoid (PLAH-koid) scales. This type of skin helps sharks swim through water quickly and easily. Some sharks can even swim over 30 miles per hour!

Did you know that most sharks will die if they stop moving? In order to take in oxygen from the water, sharks must always keep water flowing over their gills. Because they have to keep moving, there are many species of sharks that never sleep. No wonder they're so grouchy!

Some sharks have over 3,000 teeth! This is because they often lose teeth when attacking other animals for food. Luckily, sharks do not commonly attack people. In fact, more people die from earthquakes and tornadoes every year than from shark attacks.

Of all the truths about sharks, one of the most interesting might be that they have been on Earth for over 400 million years! Scientists have agreed, through the study of fossils, that sharks existed even before the dinosaurs.

Because of their fierce nature, sharks will probably always be studied very closely by humans. Like most animals on Earth, there is still a lot to be discovered.



**1. In what way are sharks like fish?**

- a. They have gills.
- b. They do not have bones.
- c. They have scaly skin.

**2. Which of these are facts (circle more than one)?**

- a. Sharks can swim 300 miles per hour.
- b. Sharks have gills.
- c. Sharks love to bite people.
- d. Shark fossils have been found by scientists.

**3. Explain why many sharks do not sleep.**

---

---

**4. What is a common sea animal that lives in Qatar?**

---

**5. State one way on how you can help in protecting the sharks or sea animals in the sea?**

---

**CRITICAL THINKING QUESTION**

**Q12. As a young citizen, how can you help in saving the sea animals in Qatar?**

---

---

**Q13. If you are a scuba diving instructor/teacher, how will you give instructions or rules to your students before they dive in the water?**

---

---

**WRITING**

**Q14. Choose one picture and construct a paragraph with at least 40 words promoting the water sports in Katara Beach or any Qatar beaches.**



**No. of words: \_\_\_\_\_**




## OSCAR ACADEMY

Under the Supervision of Ministry of Education and Higher Education

A.Y. 2023 -2024

'Oscar Builds Readers and Leaders'

رؤية وزارة التربية والتعليم والتعليم العالي

الريادة في توفير فرص تعلم دائمة ومبتكرة ذات جودة عالية للمجتمع القطري



### Summary Worksheet for the Mid- Exams Second Semester, 2023-2024

Subject: Français

Year: 3 / \_\_\_\_\_

Name: \_\_\_\_\_

#### Q1: Nommez les objets de la classe

Une règle - un stylo - une trousse - une gomme - un livre - un cartable



\_\_\_\_\_



\_\_\_\_\_



\_\_\_\_\_



\_\_\_\_\_



\_\_\_\_\_



\_\_\_\_\_


#### Q2 : Complète par u ou o :



Une voit...re



une tort...e



un r....b....t



une j....pe



des l...nettes



**Q3 : Donne le nom de chaque image**

Le bébé / le frère / la soeur / le grand - père / le père / la grand- mère / la mère



\_\_\_\_\_



\_\_\_\_\_



\_\_\_\_\_



\_\_\_\_\_



\_\_\_\_\_



\_\_\_\_\_

**Q4 : Mets les mots en ordres :**

1. Comment / Bonjour / ça / madame / va ?

\_\_\_\_\_

2. très / ça / merci /va / bien

\_\_\_\_\_

3. vtu / appelles ? / Comment / t'

\_\_\_\_\_


\_\_\_\_\_

Q5 : Compte et écrit les nombres :

1 un	2 Deux	3 trois	4 Quatre	5 cinq
6 six	7 sept	8 huit	9 neuf	10 dix

1.  \_\_\_\_\_ ballons.


2.  \_\_\_\_\_ carrés .

3.  \_\_\_\_\_ rectangle .

4.  \_\_\_\_\_ Cahiers

5.  \_\_\_\_\_ circles

6.  \_\_\_\_\_ voitures







7.  \_\_\_\_\_ filles .



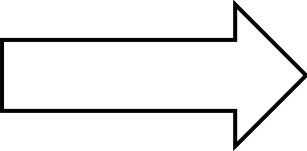



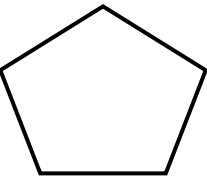
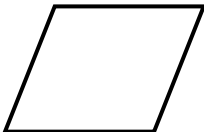
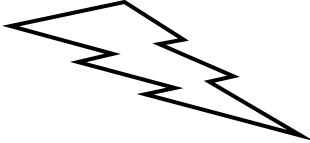
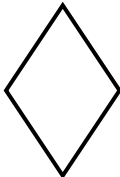
Summary Worksheet for the Mid- Exams  
Second Semester, 2023-2024

Subject: Math	Year: 3 / ____
Name: _____	

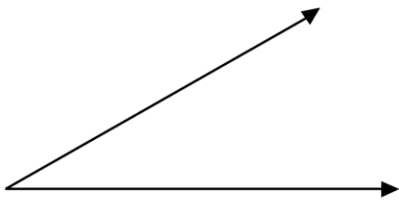
Q1. Identify the pictures below and write line, line segment or ray in the blank.

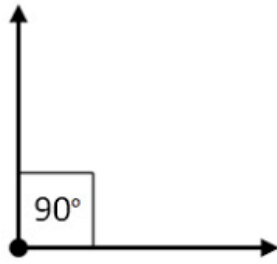
 _____	 _____	 _____
 _____	 _____	 _____

Q2. Put a ✓ the shapes are symmetrical and x if it is NOT. Draw the line of symmetry if it is symmetrical.

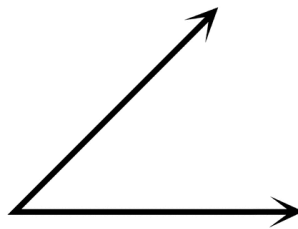
**Q3. Classify the angles below and write acute angle, right angle or obtuse angle in the box.**

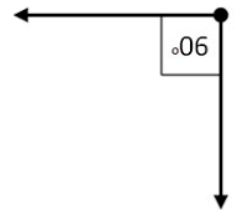




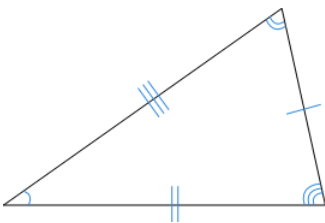


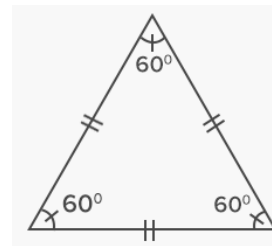


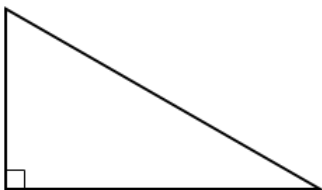


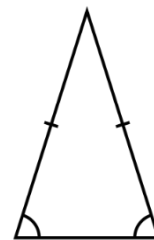



**Q4. Classify the following triangles below. Write Scalene, Isosceles, Equilateral and Right-angled Triangle in the box.**













**Q4. Classify the following solid shapes below. Write Cone, Cube, Cuboid, Cylinder, Pyramid, Sphere in the box.**





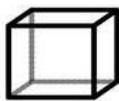






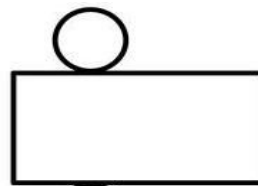



**Q5. Match the nets on the left column to its correct solid shape on the right column.**

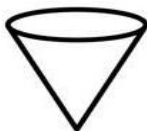


•

•

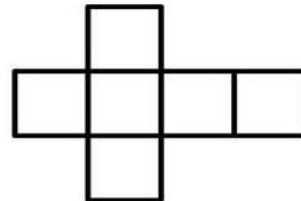


*dreamstime*



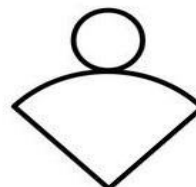
•

•



•

•



**Q6. Solve the following equations with brackets.**

a.  $5 + (15 - 4) = \underline{\hspace{2cm}}$

b.  $(10 \times 2) - 15 = \underline{\hspace{2cm}}$

c.  $(15 \div 3) + 8 = \underline{\hspace{2cm}}$

d.  $20 - (4 \times 2) = \underline{\hspace{2cm}}$

e.  $7 + (15 - 5) = \underline{\hspace{2cm}}$

f.  $(10 + 4) + 35 = \underline{\hspace{2cm}}$

**Q7. A. Write 4 different equations (+ and -) using the given 3 numbers**

<span style="border: 1px solid black; border-radius: 50%; padding: 2px 5px;">14</span> <span style="border: 1px solid black; border-radius: 50%; padding: 2px 5px;">11</span> <span style="border: 1px solid black; border-radius: 50%; padding: 2px 5px;">3</span>
+ Eq. <u>      </u> + <u>      </u> = <u>      </u>
+ Eq. <u>      </u> + <u>      </u> = <u>      </u>
- Eq. <u>      </u> - <u>      </u> = <u>      </u>
- Eq. <u>      </u> - <u>      </u> = <u>      </u>

<span style="border: 1px solid black; border-radius: 50%; padding: 2px 5px;">20</span> <span style="border: 1px solid black; border-radius: 50%; padding: 2px 5px;">50</span> <span style="border: 1px solid black; border-radius: 50%; padding: 2px 5px;">30</span>
+ Eq. <u>      </u> + <u>      </u> = <u>      </u>
+ Eq. <u>      </u> + <u>      </u> = <u>      </u>
- Eq. <u>      </u> - <u>      </u> = <u>      </u>
- Eq. <u>      </u> - <u>      </u> = <u>      </u>

**B. Write 4 different equations (x and ÷) using the given 3 numbers in the circle.**

<span style="border: 1px solid black; border-radius: 50%; padding: 2px 5px;">20</span> <span style="border: 1px solid black; border-radius: 50%; padding: 2px 5px;">10</span> <span style="border: 1px solid black; border-radius: 50%; padding: 2px 5px;">2</span>
x Eq. <u>      </u> x <u>      </u> = <u>      </u>
x Eq. <u>      </u> x <u>      </u> = <u>      </u>
÷ Eq. <u>      </u> ÷ <u>      </u> = <u>      </u>
÷ Eq. <u>      </u> ÷ <u>      </u> = <u>      </u>

<span style="border: 1px solid black; border-radius: 50%; padding: 2px 5px;">24</span> <span style="border: 1px solid black; border-radius: 50%; padding: 2px 5px;">4</span> <span style="border: 1px solid black; border-radius: 50%; padding: 2px 5px;">6</span>
x Eq. <u>      </u> x <u>      </u> = <u>      </u>
x Eq. <u>      </u> x <u>      </u> = <u>      </u>
÷ Eq. <u>      </u> ÷ <u>      </u> = <u>      </u>
÷ Eq. <u>      </u> ÷ <u>      </u> = <u>      </u>

**Q8. Solve and find for the missing number.**

a.  $\square + 24 = 31$

b.  $30 - \square = 20$

a.  $5 \times \square = 15$

b.  $30 \div 5 = \square$

**Q9. WORD PROBLEMS**


**A. If Layan has 15QR in her right pocket and 10 QR in her left pocket. How much money does she have in all? \_\_\_\_\_**

B. Sanaa is bringing 3 boxes of dates to share in the class. Each box of dates contains 30 pieces. How many dates does Najlaa have in all?

\_\_\_\_\_.

**Q10. Critical Thinking Question**

Create and color a figure made of different triangles and explain the function of your creation.



**Q11. Integration to Qatar Identity**

Name the Qatar landmark below. Identify the different angles used in its building and explain its function as an angle.



\_\_\_\_\_  
\_\_\_\_\_  
\_\_\_\_\_.



## OSCAR ACADEMY

Under the Supervision of Ministry of Education and Higher Education  
A.Y. 2023-2024

'Oscar Builds Readers and Leaders'

رؤية وزارة التربية والتعليم والتعليم العالي  
الريادة في توفير فرص تعلم دائمة ومبتكرة ذات جودة عالية للمجتمع القطري



# Summary Worksheet for the Mid- Exams second Semester, 2023-2024 Q.H ( Y.3 )

المادة : التاريخ القطري	الصف : الثالث
الاسم / .....	الصف / .....

## السؤال الأول : ضع علامة ✓ أمام العبارات الصحيحة وعلامة (x) أمام العبارات الخاطئة :

1. يصلي القطريون صلاة العيد داخل المنازل . ( )
2. المواطن القطري هو من يحمل الجنسية القطرية . ( )
3. يفطر القطريون في شهر رمضان على القهوة والفواله . ( )
4. من إكرام القطري لضيفة تقديم القهوة العربية . ( )
5. من الألعاب التي تشتهر بها البنات لعبة الدحروج . ( )
6. الهوية الشخصية مهمة لكل مواطن أو مقيم في بلادي قطر . ( )

## السؤال الثاني : أكمل الفراغات الآتية مما بين القوسين

( الدحروج - اللقيمات - القهوة العربية - الولايم - القراءة والكتابة - التطعيمات )

- 1- من الحلويات القطرية ..... .
- 2- من الألعاب الشعبية القطرية .....
3. يقدم القطري لضيفه عند قدومه إلى بيته .....
- 4- من مظاهر الاحتفال بالأعراس في قطر تقديم ..... للضيوف .
5. من حقي الحصول على ..... اللازمة للوقاية من الأمراض .
- 6- في المدرسة أمارس حقوقي في ..... وأتعلم أشياء مفيدة .

المعلومات الواردة في هذه الوثيقة لا تحدد ما سيتم تناوله في اختبار بعينه ، وهي فقط أمثلة توضيحية لبعض صياغات الأسئلة الواردة عن بعض الموضوعات الرئيسية في المنهج وإرشادات عن كيفية التعامل معها .



**السؤال الثالث : صنف الملابس التقليدية القطرية للرجال والنساء وفقا للجدول التالي :**

( البشت - العباءة - الثوب الأبيض - الغترة والعقال - ثوب النشل - البخنق )

ملابس الرجال	ملابس النساء
.....	.....
.....	.....
.....	.....

**السؤال الرابع : أجب على الأسئلة التالية. أ. من أنا ؟**

- 1 - هويتك التي تثبتت جنسيتك عند سفرك خارج البلاد . ( ..... )
- 2 - وثيقة مكتوب فيها المكان الذي ولدت فيه. ( ..... )

**ب. اذكر اثنين من الأكلات الشعبية القطرية ؟**

1. ....
2. ....

**ج . اذكر اثنين من الألعاب الشعبية في قطر ؟**

1. ....
2. ....

**د . اكتب نوع الحق المناسب جانب كل عبارة مما يأتي :**

- 1 - تمارس نورا الأنشطة التي تُحِبها في مدرستها . ( ..... )
- 2 - ذهب جاسم إلى مستشفى حمد العام لإجراء الفحوصات الطبية . ( ..... )
- 3 - أحصل على حقي في غذاء صحي لنمو جسدي بشكل صحيح . ( ..... )
- 4 - أمارس حقي في اللعب والمرح والتنزّه في منتزهات بلادي . ( ..... )



OSCAR ACADEMY  
Under the Supervision of Ministry of Education and Higher Education  
A. Y. 2023-2024



'Oscar Builds Readers and Leaders'  
رؤية وزارة التربية والتعليم والتعليم العالي  
الريادة في توفير فرص تعلم دائمة ومبتكرة ذات جودة عالية للمجتمع القطري

## Summary Worksheet for the Mid-Exams Second Semester, 2023-2024 Religion- y.3

المادة : التربية الإسلامية	الصف : الثالث
الاسم / .....	الصف / .....

### أولاً:- الحديث الشريف

س1/ اختر الإجابة الصحيحة مما يأتي :

- أهلك الله تعالى أبرهة وجيشه بـ :

أ- حجارة صغيرة      ب - رياح شديدة      ج - سيول وأمطار

- معنى كلمة أبابيل :

أ - جماعات متفرقة      ب - كبيرة الحجم      ج - جماعات متتابعة

س2/ أين ولد النبي صلى الله عليه وسلم ؟

.....

س3/ من هو النبي الذي بنى الكعبة المشرفة ؟

.....

س4/ ضع إشارة ( ✓ ) أمام العبارة الصحيحة ، وإشارة ( ✗ ) أمام العبارة غير الصحيحة :

- وُلِدَ النبي صلى الله عليه وسلم في عام الفيل . ( )

- أهلك الله تعالى أبرهة وجيشه برياح شديدة . ( )

## ثانياً:- الحديث الشريف

س1/ اختر الإجابة الصحيحة مما يأتي :

1- كلمة أحكم في الحديث المقصود بها :

أ – واحد منكم      ب – جميع المسلمين      ج- كلّ فرد في المجتمع

2- أمّ المؤمنين عائشة رضي الله عنها زوجة الرسول صلى الله عليه وسلم وابنة الصحابي :

أ – أبو بكر الصديق رضي الله عنه      ب – عمر بن الخطاب رضي الله عنه      ج – عثمان بن عفان رضي الله عنه

س2/ أكمل كتابة الحديث الشريف إلى آخره :

عن عائشة رضي الله عنها قالت : قال رسول الله صلى الله عليه وسلم " أن الله يحبّ

" .....

س3/ ضع علامة ( ✓ ) أمام العبارة الصحيحة ، علامة ( ✗ ) أمام العبارة غير الصحيحة :

- كلمة يتقنه معناها يؤديه بسرعة شديدة . ( )

- إتقان العمل يؤدي إلى زيادة الثقة بين الناس . ( )

س4/ أتعرف على راوي : الحديث أم المؤمنين رضي الله عنها

- اسمها : .....

- فضلها : .....

## ثالثاً:- العقيدة الإسلامية

س1/ اختر الإجابة الصحيحة مما يأتي :

1- الإيمان بالرسول الركن ..... من أركان الإيمان .

أ- الرابع      ب- الثالث      ج- الثاني

## 2- الإيمان بالرّسل أحد أركان .....

أ- الإسلام                      ب- الإيمان                      ج- الإحسان

س2/ اذكر اثنين من مهام الرّسل عليهم السلام

- أ- .....
- ب - .....

س3/ اكتب أمام كلّ رسول المعجزة التي أيده الله تعالى بها :

الرسول عليه السلام	معجزته
- محمد صلى الله عليه وسلم	.....
- صالح عليه السلام	.....
- موسى عليه السلام	.....
- عيسى عليه السلام	.....

### رابعًا: الفقه الإسلامي

س1/ اختر الإجابة الصحيحة مما يأتي :

- من انتقض وضوؤه أثناء الصّلاة فإنّه :

أ- لاشيء عليه وصلاته صحيحة      ب- يعيد الوضوء ويعيد الصّلاة      ج- يعيد الصّلاة فقط

- من انتقض وضوؤه ولم يجد الماء فإنّه :

أ- يتيمم ويصلي                      ب- يصلي بلا طهارة                      ج- لا يصلي

س2/ عدد أسباب الحدث ؟

- أ- .....                      ب - .....
- ج- .....                      د- .....

س3/ ضع علامة ( ✓ ) أمام العبارة الصحيحة ، وعلامة ( ✗ ) أمام العبارة غير الصحيحة :

أ/ نمسح القدمين في التيمم . ( )

ب/ أمسح وجهي في التيمم . ( )

ج/ من أسباب الحدث النوم العميق . ( )

### خامساً : السيرة

س1/ اختر الإجابة الصحيحة فيما يأتي :

1- أرسل النبي صلى الله عليه وسلم الصحابي ..... رضي الله عنه لأهل يثرب ليعلمهم القرآن والدين .

أ- عمر بن الخطاب رضي الله عنه      ب- مصعب بن عمير رضي الله عنه      ج- خالد بن الوليد رضي الله عنه

2- يثرب هو الاسم القديم لـ .....

أ- مكة المكرمة      ب- المدينة المنورة      ج- اليمن

س2/ من هي القبائل التي كانت تسكن المدينة المنورة .

أ- .....      ب- .....      ج- .....

س3/ ضع إشارة ( ✓ ) أمام العبارة الصحيحة ، وإشارة ( ✗ ) أمام العبارة غير الصحيحة :

- في موسم الحج حرص النبي صلى الله عليه وسلم أن يدعو القبائل الوافدة إلى الإسلام . ( )

- كان العرب قبل الإسلام يحجون إلى أصنامهم في الكعبة المشرفة . ( )

- بايع أهل يثرب الرسول صلى الله عليه وسلم في مكان قريب من مكة يسمى العقبة . ( )

### سادساً : الآداب

س1/ اختر الإجابة الصحيحة مما يأتي :

1- " أدخل أنا الغار أولاً يارسول الله حتى إذا كان شيء يؤدي لم يصبك . "

قائل العبارة السابقة هو الصحابي .....

أ- أبو بكر الصديق رضي الله عنه      ب- عمر بن الخطاب رضي الله عنه      ج - عثمان بن عفان رضي الله عنه

## 2- المُسلم الصادق يقتدي بـ .....

أ- الرّسول صلى الله عليه وسلم      ب- الزملاء      ج- الأصدقاء

س2/ قال النبيّ صلى الله عليه وسلم ( من صلى علي واحدة صلى الله عليه بها عشراً )

- استنتج فضل الصّلاة على النبيّ صلى الله عليه وسلم من الحديث الشريف .

س3/ ضع إشارة (✓) أمام العبارة الصحيحة ، وإشارة (×) أمام العبارة غير الصحيحة :

- أ- أرسل الله تعالى رسوله محمداً صلى الله عليه وسلم للعرب خاصة . ( )
- ب - من صلى على النبيّ مرّة صلى الله عليه بها خمساً . ( )
- ج - على المُسلم أن يقتدي برسول الله صلى الله عليه وسلم . ( )



## Summary Worksheet for the Mid- Exams Second Semester, 2023-2024

Subject: Science







Year: 3 / \_\_\_\_

Name: \_\_\_\_\_

### Q1. True or False:

- \_\_\_\_\_ 1. We need food to give us energy and stay healthy.
- \_\_\_\_\_ 2. Meat, fish nuts are body-building foods.
- \_\_\_\_\_ 3. Bread, rice, potatoes are energy giving foods.
- \_\_\_\_\_ 4. Cream, butter and oil are examples of protein.
- \_\_\_\_\_ 5. Vitamins and minerals keep you sick.
- \_\_\_\_\_ 6. Fruits, vegetables and cereals contains fibre.
- \_\_\_\_\_ 7. Eating the right mixture of foods is called a balance diet.
- \_\_\_\_\_ 8. You could survive for many days without water.
- \_\_\_\_\_ 9. Water makes our blood solid.
- \_\_\_\_\_ 10. Water carries waste out of our bodies in urine and faeces.

Q2. Classify the following. Write C if the food is rich in carbohydrates and P for protein, V for vitamins M for minerals and F for fats.



**Q3. Complete the statement. Circle the correct answer.**

1. Dirty food is full of A. energy B. germs
2. In preparing food you must use A. proper hygiene B. dirt
3. It kills germs and makes food safe. A. covering B. cooking
4. Method that stop germs being able to breed. A. preserving B. growing
5. Germs are \_\_\_\_\_ things. A. non-living B. living

**Q4. Classify the following foods. Write the food types.**

**(Carbohydrates, Protein, Fats and Oils and Vitamins and Minerals)**

	rice, bread, potatoes, pasta
	fries, oil, cream, butter, cakes
	fruits and vegetables
	fish, meat, nuts, beans, chicken

**Q5. Write a sentence that describe each different kinds of food.**

a. Carbohydrates

\_\_\_\_\_.

b. Protein

\_\_\_\_\_.



c. Vitamins and Minerals

d. Fats and Oils

Q6. Sort these foods. Write them in the correct column.

Food from plants	Food from animals
a. _____	a. _____
b. _____	b. _____
c. _____	c. _____
d. _____	d. _____
e. _____	e. _____



fish



Carrot



cheese



Cucumber




chicken



Pumpkin



meat



Potato

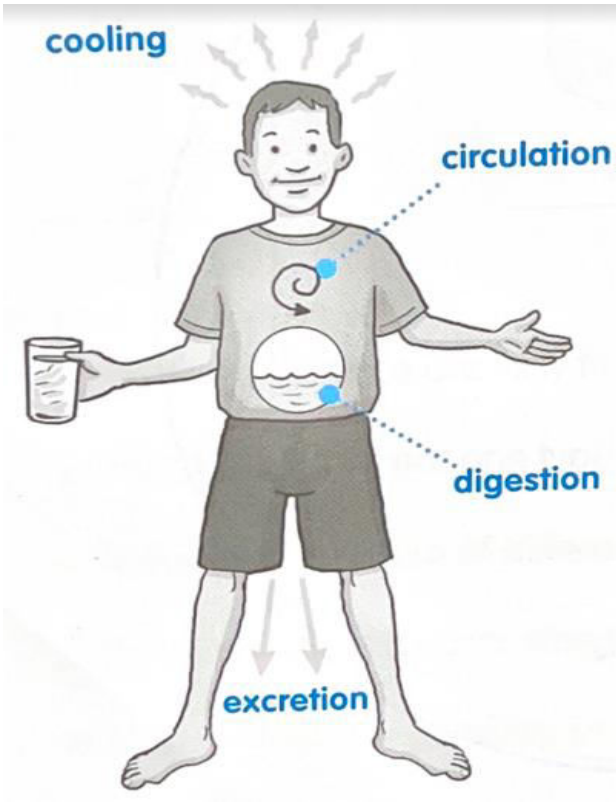


Tomato



milk

Q7. Use the words to complete the sentences.

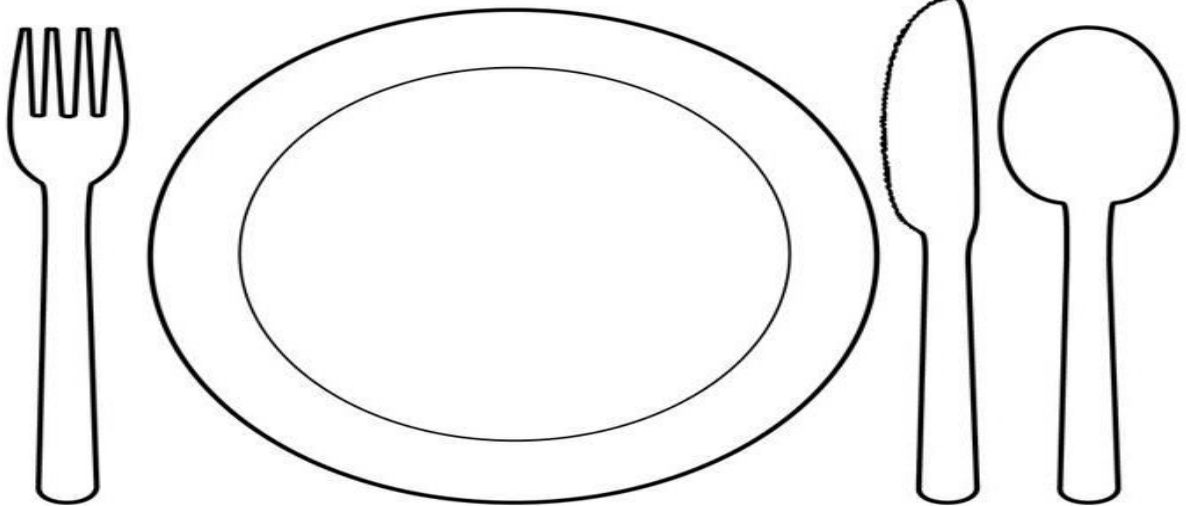


sweat      food      waste      liquid

- a. Water makes our blood \_\_\_\_\_.
- b. Water helps digest our \_\_\_\_\_.
- c. Water cools us as we \_\_\_\_\_.
- d. Water helps carry \_\_\_\_\_ from our bodies.

Q8. Critical Thinking Question/Qatar Identity:

Think of a famous Qatari food. Draw, colour and name it. Write the food types.



One of the famous food in Qatar is

---

---



## OSCAR ACADEMY

Under the Supervision of Ministry of Education and Higher Education

A.Y. 2023-2024

'Oscar Builds Readers and Leaders'

رؤية وزارة التربية والتعليم والتعليم العالي

الريادة في توفير فرص تعلم دائمة ومبتكرة ذات جودة عالية للمجتمع القطري



### Summary Worksheet for the Mid- Exams Second Semester, 2023-2024

Subject: Social Studies

Year 3 / \_\_\_\_\_

Name: \_\_\_\_\_

#### Q1. Fill the blanks with the correct answer


1. Geologists are \_\_\_\_\_ who study the earth.  
(teacher) (Scientist)
2. Geologist believe the earth is \_\_\_\_\_ years old.  
(200) (4,600 million)
3. Scientists believe that long ago all the seven \_\_\_\_\_ were joined together forming one huge piece of land called Pangaea.  
(continents) (ocean)
4. \_\_\_\_\_ began to break up slowly about 200 million years ago.  
(scientist) ( Pangaea)
5. If Pangaea is the land area, what is Panthalassa?  
( Earth) (one huge ocean)
6. The caveman \_\_\_\_\_ from place to place.  
( fly ) ( walk )
7. Transportation is a means by which people \_\_\_\_\_ from pace to place.  
( crawl ) ( travel )

8. \_\_\_\_\_ is used for transportation in some places in Africa.  
(dog) (elephant)

9. Some \_\_\_\_\_ were so big that families used them to travel to far places.  
( wagons ) ( caveman )

10. What became much easier to ride when pedals were added? \_\_\_\_\_  
( plane) (bicycle)

**Q2. Classify the means of transportation below into land, air or water.**



**Q3. Chose from the box to complete each sentence**

<b>balloon</b>	<b>faster</b>	<b>rich</b>	<b>horses</b>	<b>aviation</b>
<b>noise</b>	<b>people</b>	<b>slow</b>	<b>subways</b>	<b>dhow</b>

1. Trains underground are called \_\_\_\_\_
2. The first train that were invented were very \_\_\_\_\_
3. The cars that were invented didn't need to be pulled by \_\_\_\_\_
4. Long ago, only very \_\_\_\_\_ people could own a car.
5. The first cars were very slow and made a lot of \_\_\_\_\_
6. Modern cars are \_\_\_\_\_ and much easier to drive.
7. Many years ago man first flew in the sky in a \_\_\_\_\_
8. The very first airplane that were invented could carry only few \_\_\_\_\_
9. Traveling through air is called \_\_\_\_\_
10. Long ago Arabs built boats called \_\_\_\_\_

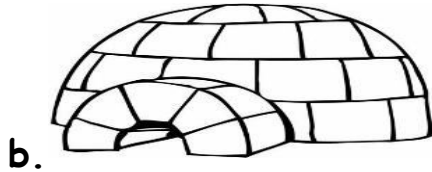
**Q4. Complete the statements by putting ✓ in the correct box.**

1. We travel on the road by  
car      boat
2. We sail on the  
air      sea
3. Cave men travel by  
flying      walking
4. People rode on some  
horse      hen


**Q5. Match these houses to their correct names.**



Reed house



Skyscraper



Igloo



Tent




Apartment



House boat

**Q6. Draw the best means of transportation for you in the box below and write two reasons for your choice.**



---


---

---

---

**Q7. Critical Thinking Question/Qatar Identity:**

Name the means of transportation below. Differentiate the transportation pictures below.



---



---

These are both modern means of transportation in the world. However, what are the differences between these two?

---

---

---